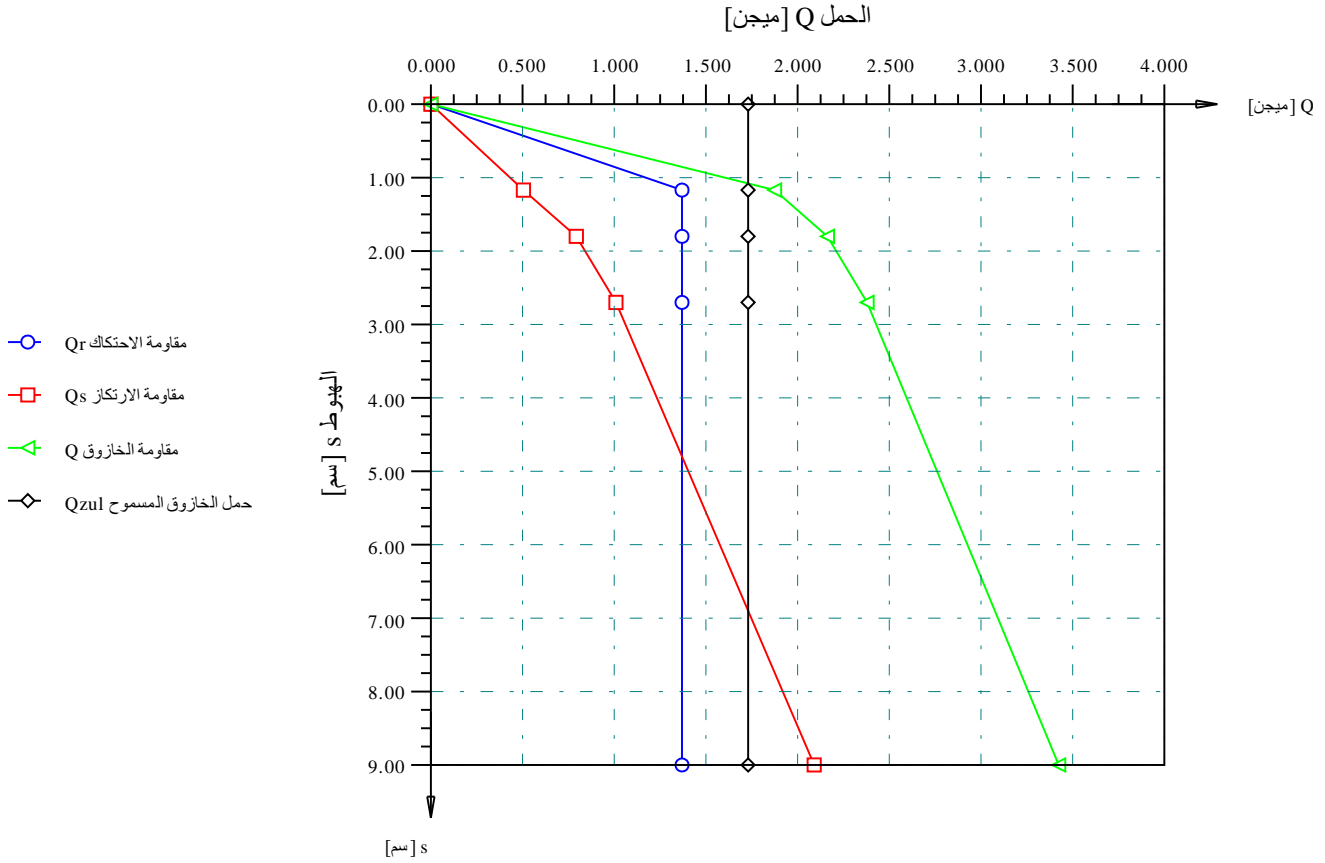


قدرة تحمل وهبوط الخازوق المفرد أو حائط الخوازيق باستخدام برنامج إبل-السرير

اسم الخازوق: P1

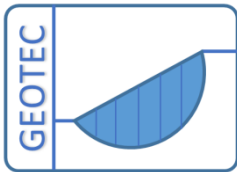
رقم الخازوق: 1



منحنى الحمل-الهبوط للخازوق طبقاً للمواصفات الألمانية DIN 4014

مؤلف البرنامج: محمد الجندي

أمين الجندي



Copyright ©

GEOTEC Software Inc.

Canada

Tele.:+1(587) 332-3323

geotec@geotecsoftware.com

www.geotecsoftware.com

جدول المحتويات

صفحة

١	مقدمة.....	٤
٢	قدرة تحمل وهبوط الخوازيق المنشأة بالثقيب طبقاً للكود المصري <i>ECP</i>	٥
٣	قدرة تحمل وهبوط الخوازيق المنشأة بالثقيب طبقاً للمواصفات الألمانية <i>DIN 4014</i>	٩
١-٣	قدرة تحمل و هبوط الخوازيق المفردة.....	٩
٢-٣	قدرة تحمل و هبوط حائط الخوازيق.....	١٣
٤	قدرة تحمل وهبوط الخوازيق المنشأة بالثقيب طبقاً للتوصيات الألمانية <i>EA-Piles</i>	١٥
٥	تعريف معطيات المشروع.....	٢٠
١-٥	بيانات المكتب.....	٢٠
٢-٥	نوع التحليل.....	٢٠
٣-٥	توصيف المشروع.....	٢٣
٤-٥	معطيات الاحتكاك على جذع الخازوق.....	٢٥
٥-٥	معطيات التربة أسفل كعب الخازوق.....	٢٧
٦	أمثلة.....	٢٩
١-٦	مثال ١: العلاقة بين الحمل والهبوط لخازوق تثقيب <i>DIN 4014</i>	٢٩
٢-٦	مثال ٢: العلاقة بين الحمل والهبوط لخازوق تثقيب <i>Simmer (1999)</i>	٤١
٣-٦	مثال ٣: العلاقة بين الحمل و الهبوط لحائط خوازيق.....	٥١
٤-٦	مثال ٤: العلاقة بين الحمل والهبوط لخازوق تثقيب <i>EA-Piles</i>	٦٠
١-٦	مثال ٥: العلاقة بين الحمل و الهبوط لخازوق تثقيب طبقاً للكود المصري.....	٧٤
٧	مراجع ٨١.....	

يعتمد تصميم الخوازيق التي يزيد قطرها عن ٦٠ سم و المنفذة بواسطة التثقيب الاعتيادي و المصبوبة في مكانها (bored piles) على مقدار الهبوط, حيث يتم تقدير علاقة الحمل مع الهبوط من نتائج تجربة تحميل. وفي حالة عدم توافر نتائج تجربة تحميل يمكن الرجوع إلى المواصفات المحلية أو العالمية التي تقدر هذه العلاقة من علاقات وضعية نتيجة الخبرة العملية والدراسات الإحصائية لتلك العلاقة من اختبارات عدة لظروف متعددة. وفي الغالب يكون الهبوط مقدراً كنسبة من قطر كعب الخازوق. وتقسم هذه العلاقات للخوازيق في حالتين أساسيتين وهما الأولى عندما تكون الخوازيق مختزقة تربة متماسكة الحبيبات (طينية صرفه) والثانية في تربة مفككة الحبيبات (رملية صرفه).

في هذا الكتاب يتم عرض هذه العلاقة مقدرة في اثنين من المواصفات المحلية والعالمية بالإضافة على التوصيات الألمانية:

١- قدرة تحمل وهبوط الخوازيق المنشأة بالتثقيب طبقاً للكود المصري [١]

٢- قدرة تحمل وهبوط الخوازيق المنشأة بالتثقيب طبقاً للمواصفات الألمانية DIN 4014 [٢]

٣- قدرة تحمل وهبوط الخوازيق المنشأة بالتثقيب طبقاً للتوصيات الألمانية EA-Piles [٣]

وذلك لفهم الفروق بينهما. تم في آخر هذا الكتاب وضع أمثلة محلولة يدوياً وتم التحقق من النتائج باستخدام برنامج ELPLA

[٤]

٢ قدرة تحمل وهبوط الخوازيق المنشأة بالثقيب طبقاً للكود المصري ECP

طبقاً للكود المصري لميكانيكا التربة وتصميم وتنفيذ الأساسات [١]، يعتمد تصميم الخوازيق التي يزيد قطرها عن ٦٠ سم والمنفذة بواسطة الثقيب الاعتيادي والمصبوبة في مكانها على مقدار الهبوط، حيث يتم تقدير علاقة الحمل مع الهبوط من نتائج تجربة تحميل. و في حالة عدم توافر نتائج تجربة تحميل تقدر العلاقة على النحو الوارد في شكل ١، ويتم حساب العلاقة *OBH* لحمل الارتكاز باعتبار النقطة *B* تناظر هبوط مقداره ١٥ سم بالنسبة للتربة غير المتماسكة الحبيبات أو ٥٪ من قطر الخازوق بالنسبة للتربة المتماسكة، و العلاقة *OAG* للاحتكاك الجانبي على جذع الخازوق باعتبار أن النقطة *A* تناظر هبوط يصل إلي حوالي ٥،٠-١،٠ سم (في حدود ١٪ من قطر الخازوق).

و يجمع العلاقتين تنتج العلاقة *OKCJ* للحمل الكلي على الخازوق، حيث يكون الحمل التصميمي المسموح به هو ذلك الحمل المناظر للهبوط المسموح به للخازوق المفرد باستخدام العلاقة *OKCJ* و يمكن عن طريق العلاقات *OBH*، *OAG* تحديد قيمة كل من حمل الارتكاز و حمل الاحتكاك الجانبي المناظران لقيمة الهبوط المسموح به، و يكون مجموعهما مساويا للحمل التصميمي للخازوق. يمكن تعيين العلاقة *OBH* لحمل الارتكاز مع الهبوط باستخدام جدول ١ للخوازيق المرتكزة على تربة غير متماسكة الحبيبات أو جدول ٢ للخوازيق المرتكزة على تربة طينية صرفه قوية التماسك، ويتم الحصول على قيم الحمل عند قيم الهبوط المختلفة بضرب قيمة مقاومة الارتكاز الموضحة في جدول ١ و جدول ٢ في مساحة مقطع كعب الخازوق.

أما العلاقة *OAG* لحمل الاحتكاك الجانبي مع الهبوط فيتم تعيينها باستخدام جدول ٣ لأجزاء الخوازيق المارة في التربة الغير متماسكة الحبيبات أو جدول ٤ لأجزاء الخوازيق المارة خلال تربة طينية صرفة، و يتم الحصول على قيم الحمل الأقصى للأجزاء المختلفة بضرب قيمة إجهاد الاحتكاك الجانبي الموضحة في جدول ٣ و جدول ٤، في المساحة الجانبية للجزء المناظر من جذع الخازوق، و يكون حمل الاحتكاك الجانبي الكلي مساويا لمجموع أحمال الاحتكاك المحسوبة خلال الطبقات المختلفة، مع إهمال قيمة الاحتكاك خلال مسافة تساوي ٢ مترا أسفل هامة الخوازيق مباشرة و كذلك مسافة تساوي قطر الخازوق أعلى الكعب كما هو موضح في شكل ٢.

وبالإضافة إلى التحقق من أن قيمة الهبوط المناظرة للحمل التصميمي في حدود المسموح به فيجب التأكد من توافر معامل أمان لا يقل عن ٢ بالنسبة للحمل الأقصى الكلي (القيمة *CJ*)

و تجدر الإشارة إلى أن قيم إجهاد الاحتكاك الموضحة في جدول ٣ و جدول ٤ تنطبق على الخوازيق المنفذة باستخدام ماسورة مؤقتة، و في حالة استخدام معلق البنتونيت في سند جوانب الخازوق تستخدم ثلثي القيم الموضحة في جدول ٣ و جدول ٤.

جدول ١ علاقة جهد الارتكاز مع الهبوط للتربة غير متماسكة الحبيبات للخوازيق ذات القطر الكبير والمصبوبة في مكانها

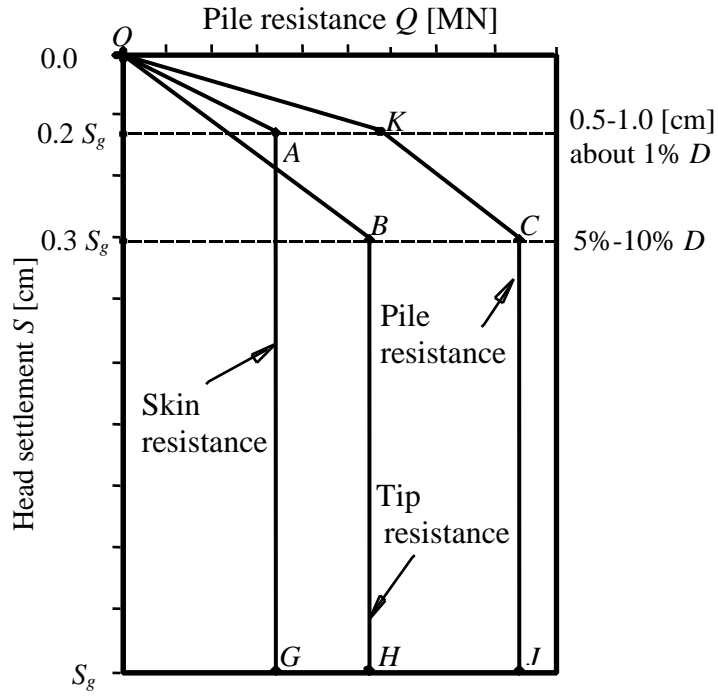
جهد الارتكاز [MN/m ²]		الهبوط [سم]
خوازيق بدون نهايات متسعة	خوازيق ذات نهايات متسعة	
٠,٥	٠,٣٥	١
٠,٨	٠,٦٥	٢
١,١	٠,٩٠	٣
٣,٤	٢,٤٠	*١٥

* قيمة الهبوط المفترض عند حمل الارتكاز الأقصى

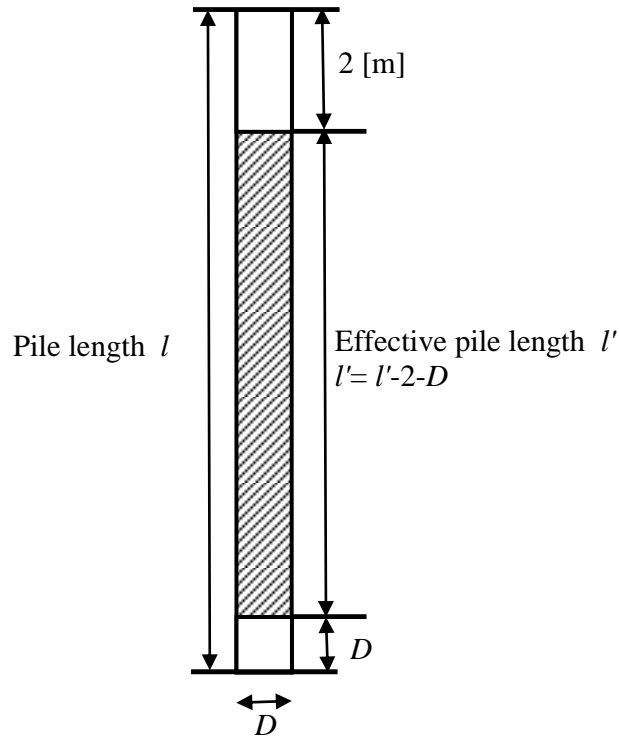
جدول ٢ علاقة جهد الارتكاز مع الهبوط للتربة المتماسكة للخوازيق ذات القطر الكبير والمصبوبة في مكانها

جهد الارتكاز [MN/m ²]	الهبوط [سم]
٠,٥	$S_g \times ٠,٢$
٠,٧	$S_g \times ٠,٣$
١,٢	* S_g

* قيمة الهبوط المفترض عند حمل الارتكاز الأقصى ويساوي ٥٪ من قطر ارتكاز الخازوق



شكل ١ العلاقة بين حمل الخازوق والهبوط طبقاً للكود المصري



شكل ٢ طول جذع الخازوق الفعال

وفي حالة التربة المكونة من طبقات متباينة متعددة يكون الحمل الأقصى للخازوق مساويا لمجموع جهود المقاومة التي ستبديها كل من الطبقات الحاملة للخازوق باستثناء الطبقات الضعيفة التي ستتضاغط وستتلاشى مقاومتها إزاء حركة جذع الخازوق أو سيتولد عنها إجهادات قص سالبة على جذع الخازوق.

جدول ٣ جهد الاحتكاك الأقصى على جذع الخازوق في التربة غير متماسكة الحبيبات للخوازيق ذات القطر الكبير والمصبوبة في مكانها

عدد الدقات "N" من اختبار الاختراق القياسي SPT	العمق تحت سطح الأرض الطبيعية [متر]	جهد الاحتكاك الأقصى* [kN/m ²]
أقل من ١٠	-	صفر
١٠-٢٠	صفر-٢,٠	صفر
	٢,٠-٥,٠	٣٠
	أكبر من ٥,٠	٥٠
٢٠-٣٠	صفر-٢,٠	صفر
	٢,٠-٧,٥	٤٥
	أكبر من ٧,٥	٧٥
أكبر من ٣٠	صفر-٢,٠	صفر
	٢,٠-١٠,٠	٦٠
	أكبر من ١٠,٠	١٠٠

* القيمة على أساس استخدام ماسورة مؤقتة في تنفيذ الخوازيق، وفي حالة استخدام معلق البنتونيت في سند جوانب الخوازيق، تستخدم ثلثي القيمة الموضحة لجهد الاحتكاك الأقصى.

جدول ٤ جهد الاحتكاك الأقصى على جذع الخازوق للتربة المتماسكة للخوازيق ذات لقطر الكبير والمصبوبة في مكانها

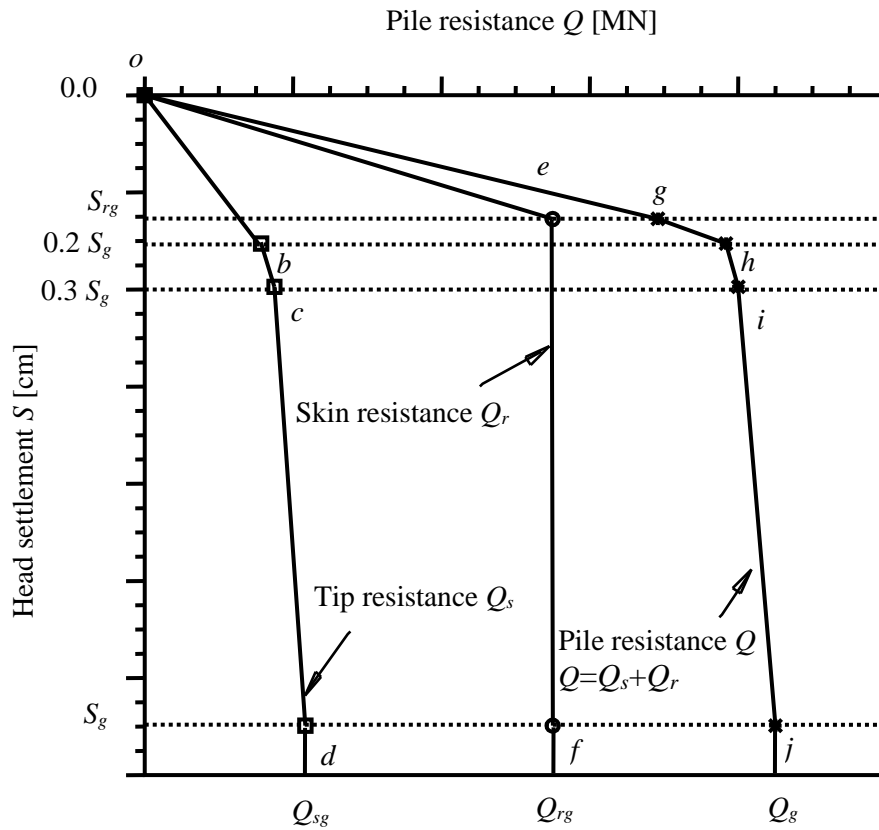
قيمة التماسك للتربة [kN/m ²]	جهد الاحتكاك الأقصى [kN/m ²]
صفر	صفر
٢٥	٢٥
١٠٠	٤٠
٢٠٠	٥٠

* في حالة عدم استخدام ماسورة مؤقتة في تنفيذ الخوازيق تستخدم ثلثي القيمة الموضحة للاحتكاك الأقصى.

٣ قدرة تحمل وهبوط الخوازيق المنشأة بالنتقيب طبقاً للمواصفات الألمانية DIN 4014

١-٣ قدرة تحمل وهبوط الخوازيق المفردة

طبقاً للمواصفات الألمانية DIN 4014 [٢] يعتمد تصميم الخوازيق التي يزيد قطرها عن ٦٠ سم والمنفذة بواسطة التنقيب الاعتيادي والمصنوبة في مكانها على مقدار الهبوط، حيث يتم تقدير علاقة الحمل مع الهبوط من نتائج تجربة تحميل. وفي حالة عدم توافر نتائج تجربة تحميل تقدر العلاقة على النحو الوارد في شكل ٣.



شكل ٣ العلاقة بين حمل الخازوق و الهبوط طبقاً للمواصفات الألمانية DIN 1045

فيتم حساب العلاقة $abcd$ من الحمل عند قاعدة ارتكاز الخازوق و الهبوط على اعتبار أن قيمة الهبوط المفترض S_g عند حمل الارتكاز الأقصى تصل إلى ١٠٪ من قطر كعب الخازوق D_f ، أي أن $S_g = 0.1 D_f$. كذلك فإن قيم الهبوط المتوسطة على منحنى العلاقة ما بين حمل الارتكاز والهبوط تكون نسبة في قطر كعب الخازوق على النحو التالي:

جدول ٥ قيم الهبوط نسبة من قطر كعب الخازوق

النقطة	الهبوط كنسبة من قطر كعب الخازوق
b	$S_1 = 0.2 S_g = 0.02 D_f$
c	$S_2 = 0.3 S_g = 0.03 D_f$
d	$S_g = 0.1 D_f$

ويتم تحديد العلاقة oef بين حمل الاحتكاك الجانبي على جذع الخازوق والهبوط باعتبار أن النقطة e تناظر هبوط لا يتعدى S_{rg} [cm] ≤ 3 . وبجمع العلاقتين تنتج العلاقة $oghij$ للحمل الكلي على الخازوق. حيث يكون الحمل التصميمي المسموح به هو ذلك الحمل المناظر للهبوط المسموح به للخازوق المفرد باستخدام العلاقة $oghij$. ويكون الحمل الآمن المسموح به للخازوق Q_{zul} [MN] يساوي أقصى حمل للخازوق Q_g [MN] مقسوما على معامل آمان $\eta = 2.0$ ، حيث:

$$Q_{zul} = \frac{Q_g}{\eta}$$

ويمكن عن طريق العلاقات $obcd$ و oef تحديد قيمة كل من حمل الارتكاز و حمل الاحتكاك الجانبي المناظران لقيمة الهبوط المسموح به. ويكون مجموعهما مساويا للحمل التصميمي للخازوق. يمكن تعيين العلاقة $obcd$ لحمل الارتكاز مع الهبوط باستخدام جدول ٦ للخوازيق المرتكزة على تربة غير متماسكة الحبيبات أو من جدول ٧ للخوازيق المرتكزة على تربة طينية صرفة قوية التماسك و ذلك إذا تم معرفة مقاومة التربة غير المتماسكة الحبيبات q_s أو قيمة التماسك الغير محصور للتربة الطينية C_u . يتم الحصول على قيم الحمل عند قيم الهبوط المختلفة بضرب قيمة مقاومة الارتكاز الموضحة في جدول ٦ و جدول ٧ في مساحة مقطع كعب الخازوق.

جدول ٦ علاقة جهد الارتكاز σ_s مع الهبوط كنسبة من قطر كعب الخازوق للتربة غير المتماسكة الحبيبات

نسبة الهبوط من قطر كعب الخازوق $\frac{S}{D_f}$ [-]	جهد الارتكاز σ_s [MN/m ²]			
	مقاومة التربة من اختبار الاختراق بالمخروط CPT			
	q_s [MN/m ²]			
	10	15	20	25
0.02	0.7	1.05	1.40	1.75
0.03	0.9	1.35	1.80	2.25
0.10	2.0	3.00	3.50	4.00

القيمة المتوسطة يمكن حسابها عن طريق الاستكمال الخطي.
في حالة الخوازيق ذات القواعد المتسعة تخفض قيمة جهد الارتكاز ٢٥٪.

جدول ٧ علاقة جهد الارتكاز σ_s مع الهبوط كنسبة من قطر كعب الخازوق للتربة الطينية الصرفة المتماسكة الحبيبات

نسبة الهبوط من قطر كعب الخازوق $\frac{S}{D_f}$ [-]	جهد الارتكاز σ_s [MN/m ²]	
	قيمة التماسك الغير محصور c_u [MN/m ²]	
	0.1	0.2
0.02	0.35	0.9
0.03	0.45	1.1
0.10	0.80	1.5

القيمة المتوسطة يمكن حسابها عن طريق الاستكمال الخطي.
في حالة الخوازيق ذات القواعد المتسعة تخفض قيمة جهد الارتكاز ٢٥٪.

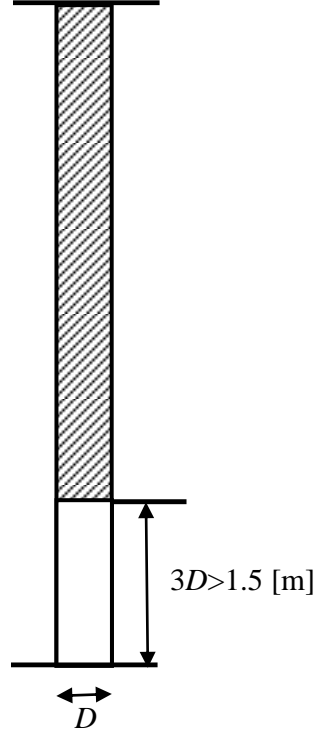
و يتم حساب مقاومة التربة q_s من اختبار الاختراق بالمخروط CPT طبقا للمواصفات الألمانية DIN 4014 أو من اختبار الاختراق القياسي SPT بعد ضرب هذه القيم في معامل حساسي. في حالة تطبيق اختبار الاختراق القياسي SPT لحساب قيم مقاومة التربة q_s فإنه يلزم ضرب هذه القيم في معامل حساسي كما هو موضح في جدول ٨. حيث N_{30} هي مقاومة التربة من اختبار الاختراق القياسي SPT.

جدول ٨ معامل حساسي بين قيم مقاومة التربة q_s [MN/m²] من اختبار الاختراق بالمخروط CPT واختبار الاختراق القياسي N_{30} (CPT)

نوع التربة	$\frac{q_s}{N_{30}}$
رمل ناعم إلى متوسط أو رمل طفلي خفيف	0.3 - 0.4
رمل أو رمل مع بعض الزلط	0.5 - 0.6
رمل	0.5 - 1.0
زلط رملي أو زلط	0.8 - 1.0

الرقم ٣٠ يقصد به عدد الحبيبات لكل ٣٠ سم اختراق في التربة

أما العلاقة oef لحمل الاحتكاك الجانبي مع الهبوط فيتم تعيينها باستخدام جدول ٩ لأجزاء الخوازيق المارة في التربة غير متماسكة الحبيبات أو جدول ١٠ لأجزاء الخوازيق المارة خلال تربة طينية صرفة، و يتم الحصول على قيم الحمل الأقصى للأجزاء المختلفة بضرب قيمة إجهاد الاحتكاك الجانبي الموضحة في جدول ٩ و جدول ١٠ في المساحة الجانبية للجزء المناظر من جذع الخازوق و يكون حمل الاحتكاك الجانبي الكلي مساويا لمجموع أحمال الاحتكاك المحسوبة خلال الطبقات المختلفة. على أن تحسب مقاومة التربة من اختبار الاختراق أسفل كعب الخازوق لمسافة تعادل ثلاثة أمثال قطر كعب الخازوق ولا تقل عن ١,٥م كما هو موضح في شكل ٤.



شكل ٤ عمق التربة أسفل كعب الخازوق المطلوب لحساب مقاومة التربة المتوسطة أسفل كعب الخازوق

و تعيين العلاقة oef بفرض أن حمل الاحتكاك الأقصى المحسوب بالطريقة السابقة يناظر هبوطا S_{rg} يقدر من المعادلة:

$$S_{rg} = 0.5 Q_{rg} \text{ (in [MN])} + 0.5 < 3 \text{ [cm]}$$

جدول ٩ جهد الاحتكاك الأقصى τ_{mf} على جذع الخازوق للتربة غير المتماسكة الحبيبات

جهد الاحتكاك الأقصى على جذع الخازوق τ_{mf} [MN/m ²]	مقاومة التربة من اختبار الاختراق بالمخروط CPT q_s [MN/m ²]
0.00	0
0.04	5
0.08	10
0.12	15 ≥
القيم المتوسطة يسمح بحسابها عن طريق الاستكمال الخطي.	

قدرة تحمل وهبوط الخازوق المفرد أو حائط الخوازيق

جدول ١٠ جهد الاحتكاك الأقصى τ_{mf} على جذع الخازوق للتربة الطينية الصرفة المتماسكة الحبيبات

جهد الاحتكاك الأقصى على جذع الخازوق τ_{mf} [MN/m ²]	قيمة التماسك الغير محصور c_u [MN/m ²]
0.025	0.025
0.040	0.100
0.060	≥ 0.2
القيم المتوسطة يسمح بحسابها عن طريق الاستكمال الخطي	

٢-٣ قدرة تحمل وهبوط حائط الخوازيق

تحتسب قدرة تحمل حائط الخوازيق طبقا للمواصفات الألمانية *DIN 4014* من تطبيق نفس المعادلات والجداول المستخدمة في حساب قدرة تحمل الخوازيق المفردة، ولكن مع استخدام معامل تخفيض لها عند حساب قدرة تحمل قاعدة تحمل الخازوق.

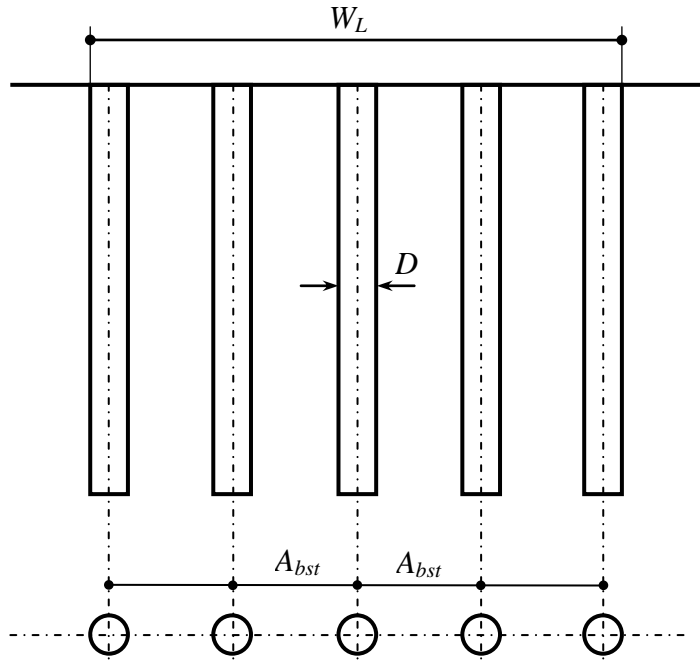
معامل التخفيض v

تنص المواصفات الألمانية على أنه عند حساب الاحتكاك الجانبي على جذع خازوق لا يكون شكل مقطعه دائري مثلما هو الحال في الحوائط الخازوقية من جدول ٩ و جدول ١٠. بينما عند حساب الحمل عند قاعدة ارتكاز الخازوق تخفض القيم المستخدمة من جدول ٥ و جدول ٦ بواسطة معامل تخفيض v يعتمد على نسبة بعدي مقطع الخازوق كما هو موضح في جدول ١١.

جدول ١١ معامل التخفيض v لحساب قدرة تحمل ارتكاز الخازوق σ_s للخوازيق التي لا يكون شكل مقطعه دائري

نسبة بعدي مقطع الخازوق $\frac{W_L}{D}$ [-]	1	≥ 5
v [-]	1	0.6
القيم المتوسطة لمعامل التخفيض يمكن حسابها عن طريق الاستكمال الخطي		

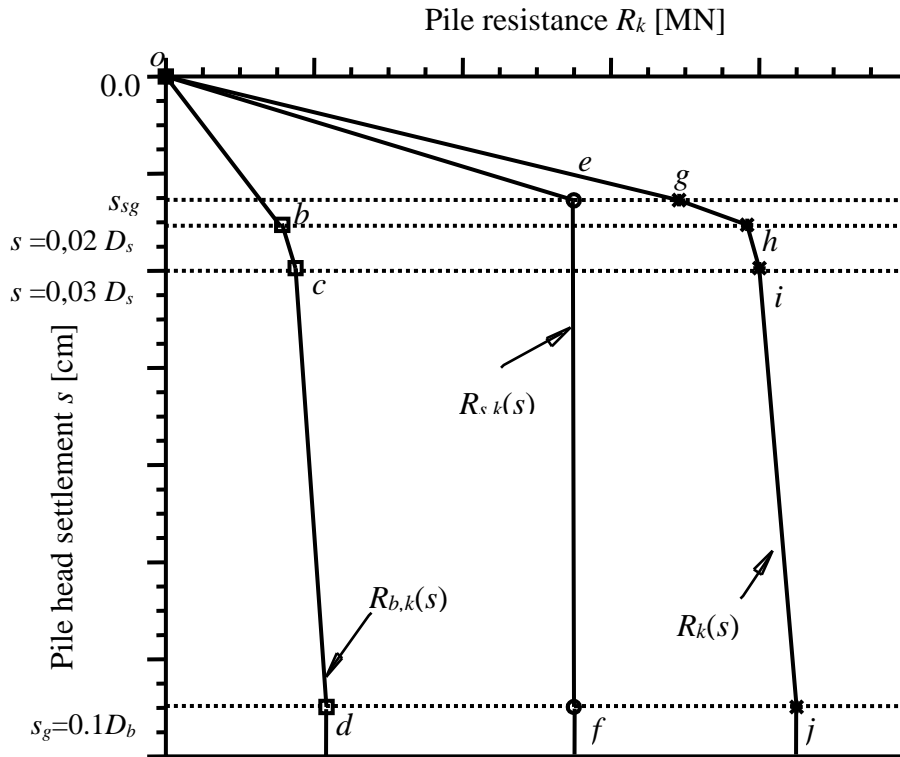
في حالة الخوازيق المحملة رأسيا تعتمد طريقة الحساب على اعتبار أن مساحة مقطع حائط الخوازيق تمثل المجموع الكلي لمساحة مقطع ارتكاز الخوازيق، وبالتالي فإن المساحة التي تغطي حائط الخوازيق يمكن اعتبارها مساحة الاحتكاك الجانبي. شكل ٥ يوضح حائط خوازيق طوله W_L مكون من خمسة خوازيق قطر كلا منها D ومسافة التقسيط بين الخوازيق هي A_{bst} .



شکل ۵ حائط خوارزق

٤ قدرة تحمل وهبوط الخوازيق المنشأة بالثقيب طبقاً للتوصيات الألمانية EA-Piles

طبقاً للتوصيات الألمانية EA-Piles [٣] يعتمد تصميم الخوازيق التي يزيد قطرها عن ٦٠ سم والمنفذة بواسطة الثقيب الاعتيادي والمصبوبة في مكانها على مقدار الهبوط، حيث يتم تقدير علاقة الحمل مع الهبوط من نتائج تجربة تحميل. وفي حالة عدم توافر نتائج تجربة تحميل تقدر العلاقة على النحو الوارد في شكل ٦.



شكل ٦ العلاقة بين حمل الخازوق والهبوط طبقاً للمواصفات الألمانية EA-Piles

فيتم حساب العلاقة $abcd$ من الحمل عند قاعدة ارتكاز الخازوق و الهبوط على اعتبار أن قيمة الهبوط المفترض s_g عند حمل الارتكاز الأقصى $R_{b,k}$ تصل إلى ١٠٪ من قطر كعب الخازوق D_b ، أي أن $s_g = 0.1 D_b$. كذلك فإن قيم الهبوط المتوسطة على منحنى العلاقة ما بين حمل الارتكاز و الهبوط تكون نسبة في قطر كعب الخازوق على النحو التالي:

جدول ١٢ قيم الهبوط نسبة من قطر كعب الخازوق

الهبوط كنسبة من قطر كعب الخازوق	النقطة
$s_1 = 0.2 s_g = 0.02 D_b$	b
$s_2 = 0.3 s_g = 0.03 D_b$	c
$s_g = 0.1 D_b$	d

و يتم تحديد العلاقة oef بين حمل الاحتكاك الجانبي على جذع الخازوق $R_{s,k}$ و الهبوط باعتبار أن النقطة e تناظر هبوط لا يتعدى $s_{sg} \leq 3$ [cm]. و تعيين العلاقة oef بفرض أن حمل الاحتكاك الأقصى المحسوب بالطريقة السابقة يناظر هبوطا s_{sg} يقدر من المعادلة:

$$s_{sg} \text{ [cm]} = 0,5 \times R_{s,k} (s_{sg}) \text{ [MN]} + 0,5 \text{ [cm]} \leq 3 \text{ [cm]}$$

وبجمع العلاقتين تنتج العلاقة $oghij$ للحمل الكلي على الخازوق:

$$R_{k(s)} = R_{b,k(s)} + R_{s,k(s)} = q_{b,k} \times A_b + \sum A_{q,s,k,i} \times A_{s,i}$$

حيث:

A_b	مساحة قاعدة الخازوق، [m ²]
$A_{s,i}$	مساحة جذع الخازوق السطحية في الطبقة i ، [m ²]
$q_{b,k}$	جهد الارتكاز، [kN/m ²]
$q_{s,k,i}$	جهد الاحتكاك على جذع الخازوق في الطبقة i ، [kN/m ²]
$R_{k(s)}$	حمل الخازوق الأقصى، [kN]
$R_{b,k(s)}$	حمل الارتكاز، [kN]
$R_{s,k(s)}$	محصلة أحمال الاحتكاك الكلية على جذع الخازوق، [kN]

حيث يكون الحمل التصميمي المسموح به هو ذلك الحمل المناظر للهبوط المسموح به للخازوق المفرد باستخدام العلاقة $oghij$. ويكون الحمل الآمن المسموح به للخازوق Q_{zul} [MN] يساوي أقصى حمل للخازوق $R_{k(s)}$ مقسوما على معامل آمان $\eta = 2.0$ ، حيث:

$$Q_{zul} = \frac{R_{k(s)}}{\eta}$$

ويمكن عن طريق العلاقات oef و $obcd$ تحديد قيمة كل من حمل الارتكاز و حمل الاحتكاك الجانبي المناظران لقيمة الهبوط المسموح به. ويكون مجموعهما مساويا للحمل التصميمي للخازوق. يمكن تعيين العلاقة $obcd$ لجهد الارتكاز مع الهبوط باستخدام جدول ١٣ للخوازيق المرتكزة على تربة غير متماسكة الحبيبات أو من جدول ١٤ للخوازيق المرتكزة على تربة طينية صرفة قوية التماسك و ذلك إذا تم معرفة مقاومة التربة غير المتماسكة الحبيبات q_c من اختبار الاختراق بالمخروط CPT أو

قدرة تحمل وهبوط الخازوق المفرد أو حائط الخوازيق

قيمة التماسك الغير محصور للتربة الطينية $c_{u,k}$. يتم الحصول على قيم الحمل عند قيم الهبوط المختلفة بضرب قيمة جهد الارتكاز الموضحة في جدول ١٣ و جدول ١٤ في مساحة مقطع كعب الخازوق.

جدول ١٣ علاقة جهد الارتكاز $q_{b,k}$ مع الهبوط كنسبة من قطر كعب الخازوق للتربة غير المتماسكة الحبيبات

نسبة الهبوط من قطر الخازوق $\frac{S}{D_b}$ or $\frac{S}{D_s}$ [-]	جهد الارتكاز $q_{b,k}$ [kN/m ²]		
	مقاومة التربة من اختبار الاختراق بالمخروط CPT q_c [MN/m ²]		
	7.5	15	25
0.02	550–800	1 050–1 400	1 750–2 300
0.03	700–1 050	1 350–1 800	2 250–2 950
0.10	1 600–2 300	3 000–4 000	4 000–5 300

القيمة المتوسطة يمكن حسابها عن طريق الاستكمال الخطي.
في حالة الخوازيق ذات القواعد المتسعة تخفض قيمة جهد الارتكاز ٢٥٪.

جدول ١٤ علاقة جهد الارتكاز $q_{b,k}$ مع الهبوط كنسبة من قطر كعب الخازوق للتربة الطينية الصرفة المتماسكة الحبيبات

نسبة الهبوط من قطر الخازوق $\frac{S}{D_b}$ or $\frac{S}{D_s}$ [-]	جهد الارتكاز $q_{b,k}$ [kN/m ²]		
	قيمة التماسك الغير محصور $c_{u,k}$ [kN/m ²]		
	100	150	250
0.02	350–450	600–750	950–1 200
0.03	450–550	700–900	1.200–1 450
0.10	800–1 000	1 200–1 500	1 600–2 000

القيمة المتوسطة يمكن حسابها عن طريق الاستكمال الخطي.
في حالة الخوازيق ذات القواعد المتسعة تخفض قيمة جهد الارتكاز ٢٥٪.

أما العلاقة oef لجهد الاحتكاك الجانبي مع الهبوط فيتم تعيينها باستخدام جدول ١٥ لأجزاء الخوازيق المارة في التربة غير متماسكة الحبيبات أو جدول ١٦ لأجزاء الخوازيق المارة خلال تربة طينية صرفة المتماسكة الحبيبات, و يتم الحصول على قيم الحمل الأقصى للأجزاء المختلفة بضرب قيمة إجهاد الاحتكاك الجانبي الموضحة في جدول ١٥ و جدول ١٦ في المساحة

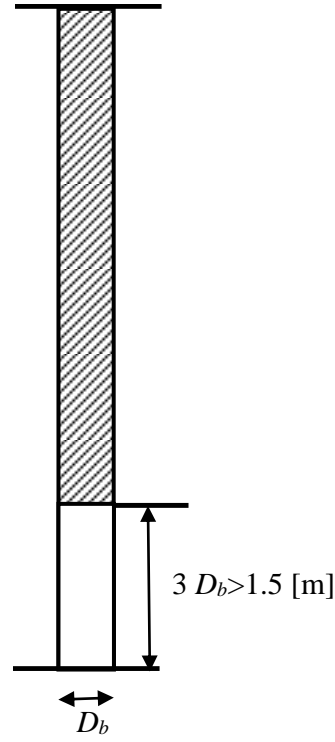
الجانبية للجزء المناظر من جذع الخازوق و يكون حمل الاحتكاك الجانبي الكلي مساويا لمجموع أحمال الاحتكاك المحسوبة خلال الطبقات المختلفة. على أن تحسب مقاومة التربة من اختبار الاختراق CPT أسفل كعب الخازوق لمسافة تعادل ثلاثة أمثال قطر كعب الخازوق ولا تقل عن ١,٥ م كما هو موضح في جدول ١٥ .

جدول ١٥ جهد الاحتكاك الأقصى $q_{s,k}$ على جذع الخازوق للتربة غير المتماسكة الحبيبات

جهد الاحتكاك الأقصى على جذع الخازوق $q_{s,k}$ [kN/m ²]	مقاومة التربة من اختبار الاختراق بالمخروط CPT q_c [MN/m ²]
55–80	7,5
105–140	15
130–170	25 ≥
القيم المتوسطة يسمح بحسابها عن طريق الاستكمال الخطي	

جدول ١٦ جهد الاحتكاك الأقصى $q_{s,k}$ على جذع الخازوق للتربة الطينية الصرفة المتماسكة الحبيبات

جهد الاحتكاك الأقصى على جذع الخازوق $q_{s,k}$ [kN/m ²]	قيمة التماسك الغير محصور $c_{u,k}$ [kN/m ²]
30–40	60
50–65	150
65–85	≥ 250
القيم المتوسطة يسمح بحسابها عن طريق الاستكمال الخطي	

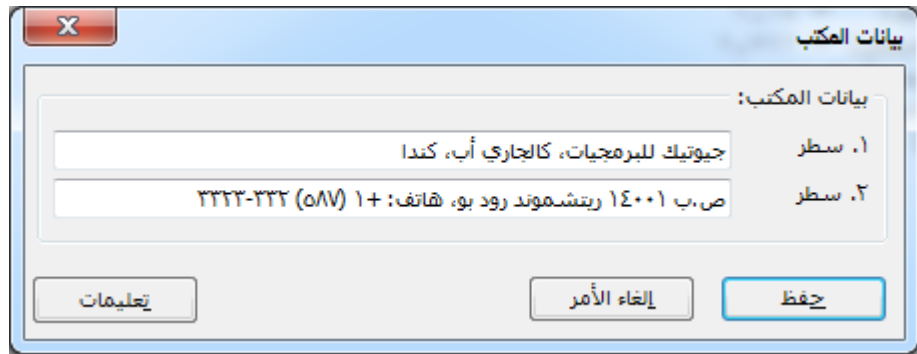


شكل ٧ عمق التربة أسفل كعب الخازوق المطلوب لحساب مقاومة التربة المتوسطة أسفل كعب الخازوق

٥ تعريف معطيات المشروع

١-٥ بيانات المكتب

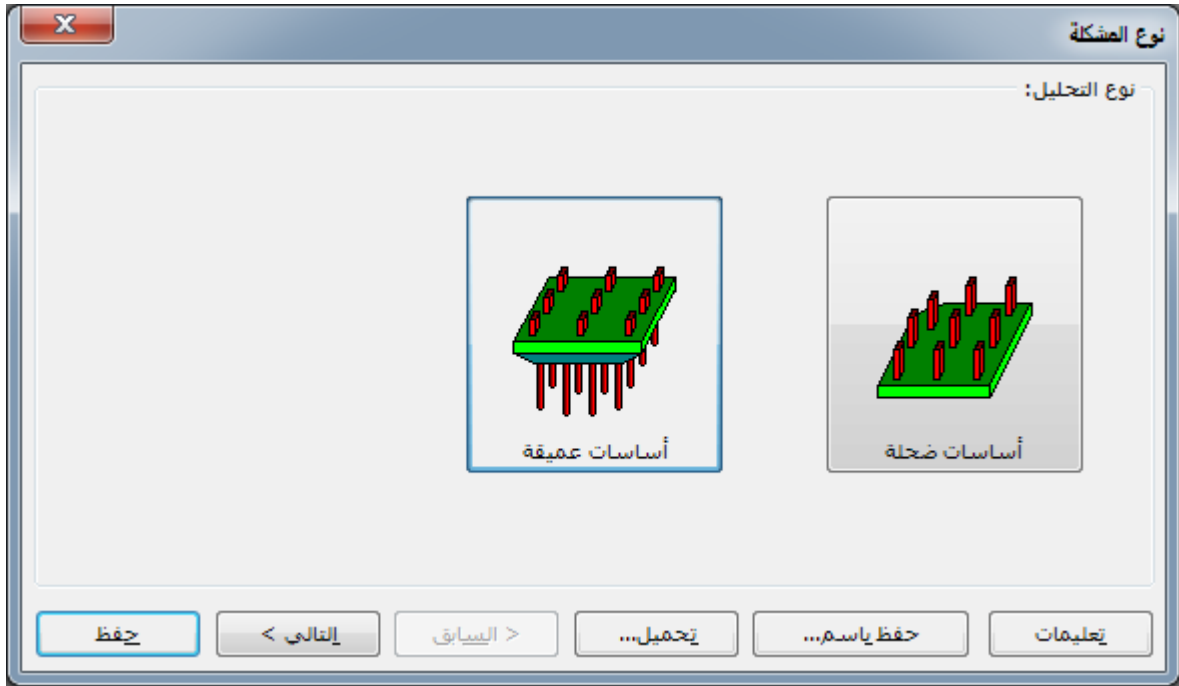
"بيانات المكتب" هي سطرين من النصوص لإعطاء معلومات عن مكتبك الهندسي، شركتك أو معهدك. تطبع تلك المعلومات ك رأس صفحة أعلى الصفحات التي تحتوي على جداول بالمدخلات والمخرجات والمنشأة بواسطة إبلا-السريع. أيضا تطبع تلك المعلومات داخل مربع التوصيف لرسومات المدخلات والمخرجات، شكل ٨.



شكل ٨ بيانات المكتب

٢-٥ نوع التحليل

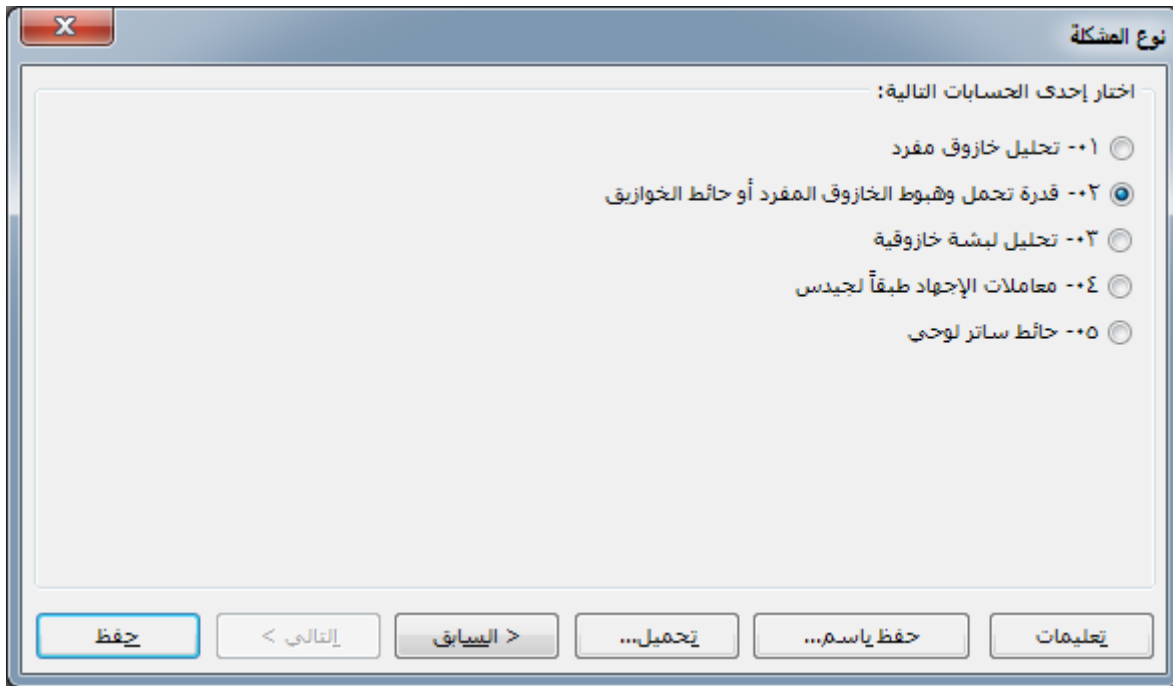
برنامج إبلا-السريع يمكنه تحليل مشاكل متعددة في الهندسة الجيوتقنية للأساسات الضحلة والأساسات العميقة، شكل ٩.



شكل ٩ نوع التحليل

طبقاً للقائمة الرئيسية في شكل ١٠ يمكن تحليل المشاكل التالية للأساسات العميقة:

- تحليل خازوق مفرد
- قدرة تحمل وهبوط الخازوق المفرد أو حائط الخوازيق
- تحليل لبشة خازوقيه
- معاملات الإجهاد طبقاً لجيدس
- حائط ساتر لوشي
- تحليل بارت مفرد



شكل ١٠ نوع المشكلة

من القائمة في شكل ١٠ اختار الحساب التالي:

- قدرة تحمل وهبوط الخازوق المفرد أو حائط الخوازيق

الفقرة التالية تصف كيفية تحديد قدرة تحمل وهبوط الخوازيق المفردة وحائط الخوازيق باستخدام برنامج إبلا - السريع. ويمكن تحديد قدرة تحمل وهبوط الخوازيق المفردة وحائط الخوازيق للخوازيق المنفذة بالتثقيب وفقاً لـ DIN 4014 أو EA piles. معطيات المدخلات هي أبعاد الخوازيق، ومقاومة التربة q_c من اختبار الاختراق بالمخروط CPT أو قيمة التماسك الغير محصور c_u لطبقات التربة. يمكن تحديد جهد الاحتكاك الأقصى على جذع الخازوق τ_{mf} وفقاً لـ DIN 4014 أو EA piles.

٣-٥ توصيف المشروع

في البرنامج يجب التمييز بين نوعين من المعطيات:

١ معطيات النظام (لتحديد المشروع الذي يتم إنشاؤه والمعلومات الإخراج للطباعة)

٢ معطيات التربة (خواص التربة الخ ..)

باستخدام أمر "توصيف المشروع"، يمكن تحديد المعلومات الخاصة بتوصيف كل مشروع، شكل ١١. تستخدم هذه المعلومات في طباعة النتائج والمعطيات. يمكن تحديد التاريخ من خلال تقويم الحاسب.

شكل ١١ وصف المشروع

معطيات نظام الخازوق

بعد النقر على أمر "قدرة تحمل وهبوط الخوازيق المفردة أو حائط الخوازيق" يتم تعريف معطيات نظام الخازوق التالية (شكل ١٢):

المهمة الحسابية:

- تحليل خازوق مفرد
- تحليل حائط خوازيق

ومنحنى الحمل الهبوط للخازوق طبقاً:

- DIN 4014
- EA-Piles للقيم الدنيا للجدول
- EA-Piles للقيم العظمى للجدول

معطيات نظام الخازوق:

D قطر الخازوق [m]

P_z اسم الخازوق

للخازوق المفرد

I_{pf} رقم الخازوق

D_f قطر كعب الخازوق [m]

Q_v الحمل على رأس الخازوق [MN]

لحائط الخوازيق

I_{pf} رقم الحائط

W_l عرض الحائط [m]

$Abst$ مسافة الخوازيق [m]

N_{pf} عدد الخوازيق

قدرة تحمل وهبوط الخازوق المفرد أو حائط الخوازيق

معطيات الخازوق | جزء جهد الاحتكاك على جذع الخازوق | جزء مقاومة ارتكاز الخازوق

طريقة الحساب:

منحني الحمل-الهبوط للخازوق طبقاً للمواصفات الألمانية DIN 4014

منحني الحمل-الهبوط للخازوق طبقاً للتوصيات الألمانية EA-Piles لقيم الجدول الدنيا

منحني الحمل-الهبوط للخازوق طبقاً للتوصيات الألمانية EA-Piles لقيم الجدول العظمى

المهمة الحسابية:

تحليل خازوق مفرد

تحليل حائط خوازيق

اسم الخازوق: P1 [-] Pz اسم الخازوق

رقم الخازوق: ١ [-] Ipf

معطيات حائط الخوازيق:

عرض الحائط: [] [م] Wl

مسافة الخوازيق: [] [م] Abst

عدد الخوازيق: [] [-] Npf

معطيات الخازوق:

قطر الخازوق: ٠,٩٠٠ [م] D

قطر كعب الخازوق: ٠,٩٠٠ [م] Df

الحمل على رأس الخازوق Qv [ميغن] ٠,٨٠٠

تحميل... حفظ النتائج نعم

حفظ باسم... تعليمات

شكل ١٢ معطيات الخازوق

٤-٥ معطيات الاحتكاك على جذع الخازوق

يتم تحديد طبيعة التربة أو الاحتكاك الأقصى على جذع الخازوق للتربة الغير متماسكة طبقاً لجدول ٩ أو للتربة المتماسكة طبقاً لجدول ١٠. التعريف الأول هو:

عدد طبقات التربة المارة بجذع الخازوق فوق كعب الخازوق ANSCH

يتم تعريف المعطيات عن الاحتكاك على جذع الخازوق لكل من الطبقات ANSCH. وهناك أيضاً ثلاثة إمكانيات لذلك:

- ١ إدخال مباشر لقيمة الاحتكاك الأقصى على جذع الخازوق لكل طبقة $Tau(i)$
- ٢ إدخال مقاومة التربة $q_s(i)$ من اختبار الاختراق بالمخروط CPT لكل طبقة والتقييم التلقائي لقيمة $Tau(i)$ للتربة الغير متماسكة من جدول ٤ ل DIN 4014
- ٣ إدخال قيمة التماسك الغير محصور $c_u(i)$ لكل طبقة والتقييم التلقائي لقيمة $Tau(i)$ للتربة المتماسكة من جدول ٥ ل DIN 4014

في مربع الخيار الموجود في شكل ١٣، إذا تم تعليم الخيار "قيم الجدول ٤ أو ٥ من DIN 4014 يتم أخذها في الاعتبار"، سيقوم البرنامج بحساب قيمة $Tau(i)$ من الجدول ٤ أو ٥ من المواصفات DIN 4014 بواسطة الاستكمال الخطي من مقاومة التربة $q_s(i)$ من اختبار الاختراق بالمخروط CPT للتربة الغير متماسكة أو من قيمة التماسك الغير محصور $c_u(i)$ للتربة المتماسكة. وإذا لم يتم تحديد الخيار السابق، تعرف قيمة $Tau(i)$ [MN/m²] لكل طبقة i .

يتم إدخال القيم التالية في مربعات الحوار الموجودة في شكل ١٣ للطبقات ANSCH كالتالي:

$L1(i)$ [m] سمك الطبقة i .

في حالة عدم أخذ قيم الجدول ٤ أو ٥ من DIN 4014 في الاعتبار يتم تعريف القيمة التالية:

$Tau(i)$ [MN/m²] جهد الاحتكاك الأقصى على جذع الحازوق للطبقة i .

في حالة قيم الجدول ٤ أو ٥ من DIN 4014 يتم أخذها في الاعتبار يتم تعريف القيم التالية:

$q_s(i)$ [MN/m²] مقاومة التربة من اختبار المخروط للتربة الغير متماسكة للطبقة i .

$c_u(i)$ [MN/m²] التماسك الغير محصور للتربة المتماسكة للطبقة i .

قدرة تحمل وهبوط الخازوق المفرد أو حائط الخوازيق

معطيات الخازوق | جزء جهد الاحتكاك على جذع الخازوق | جزء مقاومة ارتكاز الخازوق

طبقة رقم ١ من ٣ طبقات

معطيات تقنية-أرضية للطبقة:

قيم الجدول ٤ أو ٥ من المواصفات الألمانية DIN 4014 يتم أخذها في الاعتبار

سمك الطبقة	L1	[م]	٣
جهد الاحتكاك على جذع الخازوق	Tau	[ميغن/م ^٢]	٠
مقاومة التربة من اختبار المخروط	qs	[ميغن/م ^٢]	٠,٠٠٠
التماسك الغير محصور	Cu	[ميغن/م ^٢]	٠,١٠٠

حذف طبقة | ادراج طبقة | نسخ طبقة

هبوط رأس الخازوق:

هبوط الخازوق محدد بواسطة المستخدم

هبوط الخازوق لمقاومة احتكاك SigRg

Srg [سم] ١,٣٠

تحميل... | حفظ | النتائج | تعليمات | حفظ باسم... | نعم

شكل ١٣ معطيات التربة

٥-٥ معطيات التربة أسفل كعب الخازوق

يتم تعريف معطيات التربة أسفل كعب الخازوق كالتالي (شكل ١٤):

إدخال القيمة المتوسطة لمقاومة التربة q_s [MN/m²] من اختبار الاختراق بالمخروط *CPT* للتربة الغير متماسكة لطبقة عمقها $3D$ أسفل كعب الخازوق.

أو

إدخال قيمة التماسك الغير محصور c_u [MN/m²] أسفل كعب الخازوق للتربة المتماسكة.

في مربع الخيار الموجود في شكل ١٤، إذا تم تعليم الخيار "قيم الجدول ١ أو ٢ من DIN 4014 يتم أخذها في الاعتبار"، سيقوم البرنامج بحساب قيمة $Sigma-s$ (Sig) من الجدول ١ أو ٢ من المواصفات الألمانية DIN 4014 بواسطة الاستكمال الخطي من الجدول ١ للتربة الغير المتماسكة أو من الجدول ٢ للتربة المتماسكة. وإذا لم يتم تحديد الخيار السابق، تعرف القيم الثلاث Sig المتعلقة بالنسبة s/D على النحو التالي:

$$S/D_f = 0.02 \text{ [MN/m}^2\text{]} \text{ } Sig \text{ جهد الارتكاز المناظرة لنسبة هبوط}$$

$$S/D_f = 0.03 \text{ [MN/m}^2\text{]} \text{ } Sig1 \text{ جهد الارتكاز المناظر لنسبة الهبوط}$$

$$S/D_f = 0.10 \text{ [MN/m}^2\text{]} \text{ } SigGr \text{ جهد الارتكاز المناظر لنسبة الهبوط}$$

قدرة تحمل وهبوط الخازوق المفرد أو حائط الخوازيق

معطيات الخازوق | جزء جهد الاحتكاك على جذع الخازوق | جزء مقاومة ارتكاز الخازوق

معطيات التربة أسفل ارتكاز الخازوق:

قيم الجدول ١ أو ٢ من المواصفات الألمانية DIN 4014 يتم أخذها في الاعتبار

مقاومة ارتكاز الخازوق ($s/D_f = 0.02$)	Sig	[ميغن/م ^٢]	٠,٠٠
مقاومة ارتكاز الخازوق ($s/D_f = 0.03$)	Sig1	[ميغن/م ^٢]	٠,٠٠
مقاومة ارتكاز الخازوق ($s/D_f = 0.1$)	SigGr	[ميغن/م ^٢]	٠,٠٠
<input checked="" type="radio"/> مقاومة التربة من اختبار المخروط أسفل ارتكاز الخازوق	qs	[ميغن/م ^٢]	١٧,٥٠
<input type="radio"/> التماسك الغير محصور أسفل ارتكاز الخازوق	Cu	[ميغن/م ^٢]	٠,٠٠٠

هبوط الخوازيق:

هبوط الخازوق محدد بواسطة المستخدم

هبوط الخازوق لمقاومة ارتكاز Sig	S	[سم]	١,٨٠
هبوط الخازوق لمقاومة ارتكاز Sig1	S1	[سم]	٢,٧٠
هبوط الخازوق لمقاومة ارتكاز SigGr	SGr	[سم]	٩,٠٠

تحميل... | حفظ | النتائج | تعليمات | حفظ باسم... | زعم

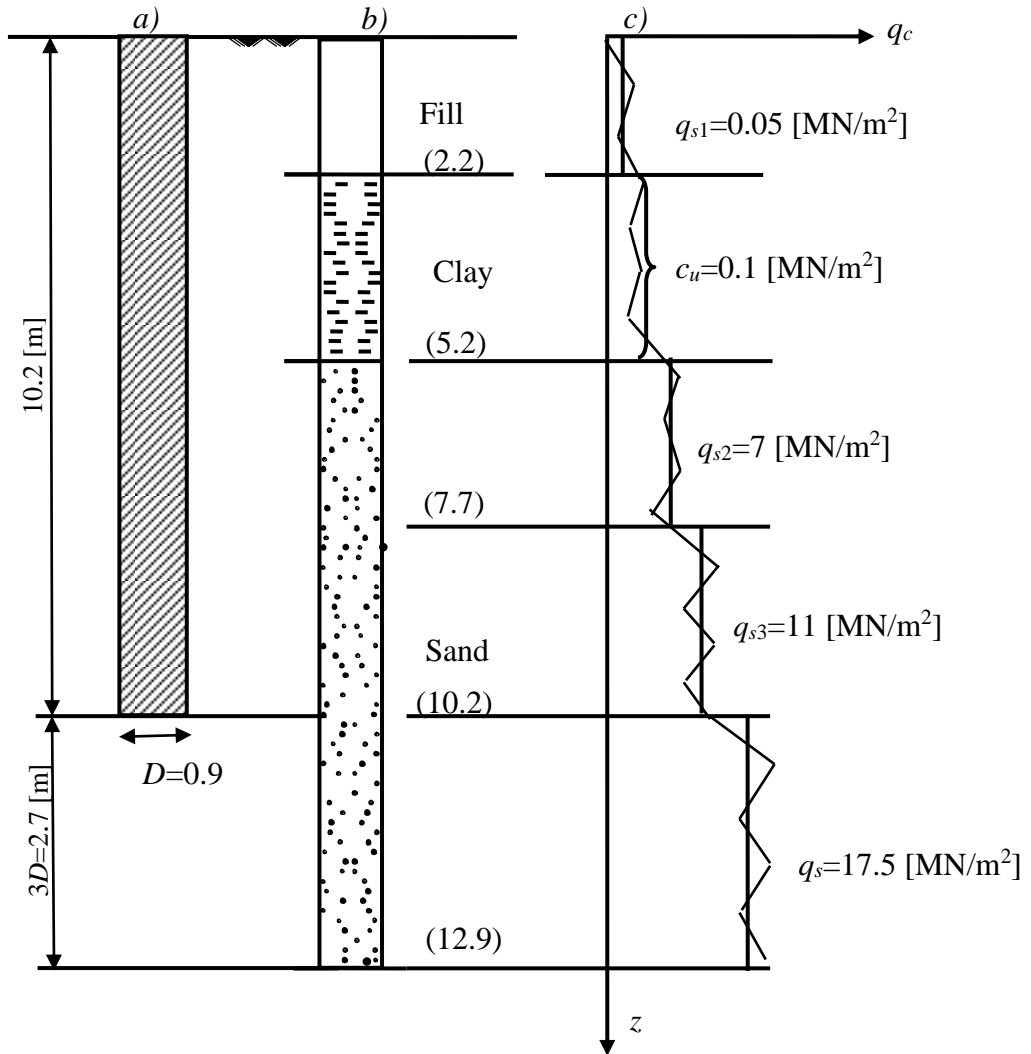
شكل ١٤ معطيات التربة أسفل كعب الخازوق

٦ أمثلة

يتم عرض إمكانيات التطبيق لبرنامج إلبال-السريع أدناه في بعض الأمثلة العددية.

١-٦ مثال ١ : العلاقة بين الحمل والهبوط لخازوق تثقيب DIN 4014

للتحقق من العلاقة بين الحمل والهبوط لخازوق تثقيب من قبل برنامج إلبال-السريع، تم مقارنة معامل الأمان η المناظر لحمل مقداره $Q_v = 1.5$ [MN] به بواسطة DIN 4014، يتم اختيار المثال الموجود بملحق B من DIN 4014. يلخص شكل ١٥ و جدول ١٧ المعلومات المتعلقة بنوع التربة ومقاومة التربة وأبعاد الخازوق المطلوبة لتحديد قدرة تحمله النهائية $Q(s)$.



شكل ١٥ (أ) أبعاد الخازوق (ب) جسمه في التربة (ج) دياجرام اختبار الاختراق بالمخروط CPT

جدول ١٧ خواص التربة

رقم الطبقة	نوع التربة	سمك الطبقة $L_I(i)$ [m]	مقاومة التربة من اختبار الاختراق بالمخروط CPT $q_s(i)$ [MN/m]	قيمة التماسك الغير محصور $c_u(i)$ [MN/m ²]
1	ردم	2.2	0.05	---
2	طين	3.0	---	0.10
3	رمل	2,5	7.00	---
4	رمل	2,5	11.00	---
5 (أسفل قاعدة الخازوق)	رمل	$3 \times D_f = 2.7$	17.50	---

طريقة الحل

كما هو مبين في شكل ١٥ طبقة الردم السطحية، سمك الطبقة $L_I(1) = 2.2$ [m]، مقاومة التربة q_s من اختبار الاختراق بالمخروط CPT لها ضعيفة جدا، لذلك يمكن إهمال مقاومتها.

في طبقة الطين، سمك الطبقة $L_I(2) = 3$ [m]، الممتدة من عمق من ٢,٢ [م] إلى ٥,٢ [م]، قيمة التماسك الغير المحصور لها هو $c_u(2) = 0.1$ [MN/m²]، يمكن اعتبار جهد الاحتكاك الأقصى لهذه الطبقة هو $\tau_{mf} = 0.04$ [MN/m] وفقا ل جدول ١٠.

يتم التعبير عن مقاومة الاختراق في طبقة الرمل حتى عمق حوالي ١٢,٩ [م] في شكل المتوسطات q_{s2} ، q_{s3} و q_s والتي تختص بالأعماق الموضحة في شكل ١٥.

أولا: الحسابات اليدوية

تتم الحسابات اليدوية وفقا للخطوات التالية:

١- حساب أحمال الارتكاز المميزة $Q_s(s)$

مساحة مقطع كعب الخازوق

$$A_f = \frac{\pi D_f^2}{4} = \frac{\pi(0.9)^2}{4} = 0.636 [\text{m}^2]$$

لحساب جهد الارتكاز σ_s يجب الأخذ في الاعتبار تحديد مقاومة التربة المتوسطة q_s عند عمق يعادل ثلاثة أمثال قطر كعب الخازوق ولا يقل عن ١,٥ م.

$$Z > D_f > 1.5 [\text{m}]$$

في المثال هذا العمق يساوي $Z = 3 \times 0.9 = 2.7$ أسفل كعب الخازوق، ومقاومة التربة لهذا العمق هي $q_s = 17.5$ $[\text{MN}/\text{m}^2]$. باستخدام جدول ٦ يتم تحديد قيم جهد الارتكاز σ المناظر لمقاومة تربة غير متماسكة مقدار مقاومتها q_s عند نسب هبوط $s/D_f = 0.02, 0.03, 0.10$. وحيث أن q_s هي قيمة متوسطة لقيم الجدول يحسب جهد الارتكاز باستخدام الاستكمال الخطي.

جهد الارتكاز σ المناظر لنسبة هبوط $s/D_f = 0.02$

$$\sigma = 1.05 + (1.4 - 1.05) \frac{20 - 17.5}{20 - 15}$$

$$\sigma = 1.225 [\text{MN}/\text{m}^2]$$

جهد الارتكاز σ_1 المناظر لنسبة الهبوط $s/D_f = 0.03$

$$\sigma_1 = 1.35 + (1.8 - 1.35) \frac{20 - 17.5}{20 - 15}$$

$$\sigma_1 = 1.575 [\text{MN}/\text{m}^2]$$

جهد الارتكاز σ_{gr} المناظر لنسبة الهبوط $s/D_f = 0.10$

$$\sigma_{gr} = 3.0 + (3.5 - 3.0) \frac{20 - 17.5}{20 - 15}$$

$$\sigma_{gr} = 3.25 [\text{MN}/\text{m}^2]$$

وتكون أحمال الارتكاز المميزة عند قاعدة الخازوق $Q_s(s)$ كالآتي:

$$Q_s(s)_1 = \sigma \times A_f = 1.225 \times 0.636 = 0.779 [\text{MN}]$$

$$Q_s(s)_2 = \sigma_1 \times A_f = 1.575 \times 0.636 = 1.002 [\text{MN}]$$

$$Q_s(s)_3 = \sigma_{gr} \times A_f = 3.25 \times 0.636 = 2.067 [\text{MN}]$$

أما الهبوط المقابل لأحمال الارتكاز المميزة عند قاعدة الخازوق محسوبا كنسبة مئوية من قطر كعب الخازوق، فتحسب كالتالي:

$$S_1 = 0.02 D_f = 0.02 \times 0.9 = 0.0018 [\text{m}] = 1.8 [\text{cm}]$$

$$S_2 = 0.03 D_f = 0.03 \times 0.9 = 0.0027 [\text{m}] = 2.7 [\text{cm}]$$

$$S_3 = 0.10 D_f = 0.10 \times 0.9 = 0.090 [\text{m}] = 9.0 [\text{cm}]$$

حيث الهبوط S_g يعتبر الهبوط الأقصى نتيجة حمل الارتكاز المميز. من قيم أحمال الارتكاز المميزة و الهبوط المناظر يتم رسم العلاقة $abcd$ بين حمل الارتكاز المميز عند قاعدة العمود و الهبوط المناظر لها.

ب- حساب قوة الاحتكاك المميزة Q_{rg}

مساحة الاحتكاك الجانبية لجذع الخازوق على المتر الطولي

$$A_m = \pi D_f \times 1.0 = 0.9\pi \times 1.0 = 2.827 \text{ [m}^2/\text{m]}$$

نظرا لضعف طبقة الردم العلوية يتم إهمالها عند حساب قوى الاحتكاك على جذع الخازوق.

قوة الاحتكاك القصوى لطبقة الطين Q_{rg1}

طول جذع الخازوق المار في طبقة الطين $L_1 = 3.0 \text{ [m]}$

قوى التماسك الغير المحصورة $c_{u1} = 0.1 \text{ [MN/m}^2\text{]}$

باستخدام جدول ١٠ يمكن حساب جهد الاحتكاك الأقصى τ_{mf1} لجذع الخازوق المار في التربة الطينية. من جدول ١٠ نجد أن جهد الاحتكاك الأقصى τ_{mf1} المناظر لقيمة التماسك $c_{u1} = 0.1 \text{ [MN/m}^2\text{]}$ هو:

$$\tau_{mf1} = 0.04 \text{ [MN/m}^2\text{]}$$

وبهذا تكون قوة الاحتكاك القصوى لطبقة الطين هي:

$$Q_{rg1} = \tau_{mf1} \times A_m \times L_1 = 0.04 \times 2.827 \times 3.0 = 0.339 \text{ [MN]}$$

قوة الاحتكاك القصوى لطبقة الرمل الأولى أعلى قاعدة الخازوق Q_{rg2}

طول جذع الخازوق المار في طبقة الرمل الأولى $L_2 = 2.5 \text{ [m]}$

مقاومة التربة المحسوبة من اختبار الاختراق CPT $q_{s2} = 7 \text{ [MN/m}^2\text{]}$

باستخدام جدول ٩ يمكن حساب جهد الاحتكاك الأقصى τ_{mf2} على جذع الخازوق المار في التربة الغير متماسكة الحبيبات بدلالة مقاومة التربة المحسوبة من اختبار الاختراق q_{s2} .

من جدول ٩ نجد أن $q_{s2} = 7 \text{ [MN/m}^2\text{]}$ هي قيمة متوسطة لقيم الجدول لذلك يحسب جهد الاحتكاك الأقصى τ_{mf2} باستخدام الاستكمال الخطي.

$$\tau_{mf2} = 0.04 + (0.08 - 0.04) \frac{7-5}{10-5}$$

$$\tau_{mf2} = 0.056 [\text{MN/m}^2]$$

وبهذا تكون قوة الاحتكاك القصوى لطبقة الزلط هي:

$$Q_{rg2} = \tau_{mf2} \times A_m \times L_2 = 0.056 \times 2.827 \times 2.5 = 0.396 [\text{MN}]$$

قوة الاحتكاك القصوى لطبقة الرمل الثانية أعلى قاعدة الخازوق Q_{rg3}

طول جذع الخازوق المار في طبقة الرمل الثانية $L_2 = 2.5 [\text{m}]$

مقاومة التربة المحسوبة من اختبار الاختراق CPT $q_{s3} = 11 [\text{MN/m}^2]$

من جدول ٩ نجد أن $q_{s3} = 11 [\text{MN/m}^2]$ هي قيمة متوسطة لقيم الجدول لذلك يحسب جهد الاحتكاك الأقصى τ_{mf3} باستخدام الاستكمال الخطي.

$$\tau_{mf3} = 0.08 + (0.12 - 0.08) \frac{11-10}{15-10}$$

$$\tau_{mf3} = 0.088 [\text{MN/m}^2]$$

وبهذا يكون قوة الاحتكاك القصوى لطبقة الرمل هو:

$$Q_{rg3} = \tau_{mf3} \times A_m \times L_3 = 0.088 \times 2.827 \times 2.5 = 0.622 [\text{MN}]$$

وتكون قوة الاحتكاك القصوى الكلية هي:

$$Q_{rg} = Q_{rg1} + Q_{rg2} + Q_{rg3} = 0.339 + 0.396 + 0.622 = 1.357 [\text{MN}]$$

قوى الاحتكاك على جذع الخازوق Q_{rg} يتم عرضها في جدول ١٨.

جدول ١٨ الاحتكاك على جذع الخازوق

سمك الطبقة	مقاومة التربة من اختبار الاختراق بالمخروط CPT	قيمة التماسك الغير محصور	الاحتكاك على جذع الخازوق	قوة الاحتكاك
$L1$ [m]	q_s [MN/m ²]	c_u [MN/m ²]	τ_{mf} [MN/m ²]	Q_{rg} [MN]
3,0	-	0,1	0,040	0,339
2,5	7	-	0,056	0,396
2,5	11	-	0,088	0,622
مجموع قوى الاحتكاك Q_{rg}				1,357

ويحسب الهبوط s_{rg} المناظر لحمل الاحتكاك الكلي Q_{rg} من العلاقة.

$$s_{rg} = 0.5Q_{rg} \text{ (in [MN])} + 0.5 < 3 \text{ [cm]}$$

$$s_{rg} = 0.5 \times 1.357 + 0.5 = 1.2 \text{ [cm]}$$

من قيم حمل الاحتكاك Q_{rg} والهبوط المناظر s_{rg} يتم رسم العلاقة oef بين حمل الاحتكاك على جذع الخازوق والهبوط المناظر له. بتجميع العلاقتين الناتجتين من حمل ارتكاز العمود و حمل الاحتكاك يلزم معرفة الحمل $Q_s(s)$ المناظر لهبوط مقداره = $s_{rg} 1.2 \text{ [cm]}$ على المنحنى $abcd$ حيث يمكن حسابه من

$$Q_s(s) = \frac{s_{rg}}{s_1} \times Q_s(s)_1$$

$$Q_s(s) = \frac{1.2}{1.8} \times 0.779 = 0.519 \text{ [MN]}$$

العلاقات بين حمل الارتكاز، حمل الاحتكاك، الحمل الكلي والهبوط موضحة في جدول ١٩.

جدول ١٩ مقاومة الخازوق اعتمادا على هبوط الخازوق

المهبط كنسبة من قطر كعب الخازوق $\frac{S}{D_f}$ [-]	هبوط رأس الخازوق s [cm]	مقاومة الارتكاز $Q_s(s)$ [MN]	مقاومة الاحتكاك $Q_r(s)$ [MN]	الحمل الكلي $Q(s)$ [MN]
0.013	1,20	0,519	1,357	1,876
0.02	1,80	0,779	1,357	2,136
0.03	2,70	1,002	1,357	2,359
$0.10 = S_g$	9,00	2,067	1,357	$3,424 = Q_g$

الحمل الآمن للخازوق

من جدول ١٩ يكون الحمل الكلي الأقصى للخازوق هو :

$$Q_g = 3.424 \text{ [MN]}$$

و الحمل الآمن المسموح به للخازوق يمكن إيجاده بقسمة الحمل الكلي الأقصى على معامل آمان $\eta = 2.0$

$$Q_{zul} = \frac{Q_g}{\eta}$$

$$Q_{zul} = \frac{3.424}{2.0} = 1.712 \text{ [MN]}$$

ويحسب الهبوط الآمن S_{zul} المسموح به والمناظر للحمل الآمن من العلاقة الكلية بين الحمل و الهبوط في شكل (٢)

$$s_{zul} = s(1) \frac{Q_{zul}}{Q(1)}$$

$$s_{zul} = 1.2 \frac{1.712}{1.876}$$

$$s_{zul} = 1.095 \text{ [cm]}$$

ويحسب معامل الآمان η المناظر لحمل مقداره $Q_v = 3,1 \text{ [MN]}$ من منحنى العلاقة الكلية بين الحمل والهبوط كالتالي:

$$\eta = \frac{Q_{zul}}{Q_v} = \frac{1.712}{1.5}$$

$$\eta = 1.14$$

وهو أقل من المسموح به

ثانيا: الحل باستخدام إبلاآ-السريع

يتم عرض بيانات المدخلات والنتائج من إبلاآ-السريع على الصفحات التالية. صفحتان من بيانات المدخلات، والنتائج المتوسطة والنهائية، فضلا عن صفحة من الرسم البياني ملونة وذلك على سبيل المقارنة، يمكن للمرء أن يرى اتفاقا جيدا مع الحسابات اليدوية.

ألبلاً السريع

إصدار ١٠

تأليف Prof. M. El Gendy/ Dr. A. El Gendy

العنوان: Bearing capacity and settlement of a single pile

التاريخ: ١١_٠٦_٢٠١٥

مشروع: Example in Appendix B of DIN 4014

ملف: DIN 4014

قدرة تحمل وهبوط خازوق مفرد

منحنى الحمل-الهبوط للخازوق طبقاً للمواصفات الألمانية DIN 4014

معطيات:

٠,٩٠ =	[م]	-D	قطر الخازوق
٠,٩٠ =	[م]	-Df	قطر كعب الخازوق
٨,٠٠ =	[م]	-Lg	طول الخازوق
P1 =	[-]	-Pz	اسم الخازوق
١ =	[-]	-=Ipf	رقم الخازوق

ملخص النتائج

معطيات التربة أسفل ارتكاز الخازوق:

مقاومة التربة من اختبار المخروط أسفل ارتكاز الخازوق -qs [ميغن/م^٢] = ١٧,٥٠

جهد ارتكاز الخازوق (طبقاً للمواصفات الألمانية DIN 4014 جدول ١)

١,٢٣ =	[ميغن/م ^٢]	-s/Df = 0.02	Sig
١,٥٨ =	[ميغن/م ^٢]	-Sig1	s/Df = 0.03
٣,٢٥ =	[ميغن/م ^٢]	-s/Df = 0.10	SigGR

النتائج الوسيطة
جهد الاحتكاك على جذع الخازوق:

طبقة رقم	سمك الطبقة	مقاومة التربة من اختبار المخروط الغير محصور	تماسك التربة	الاحتكاك على جذع الخازوق	قوة الاحتكاك
ن	-L1 [م]	-qs [ميغن/م ٢]	-Cu [ميغن/م ٢]	-Tau [ميغن/م ٢]	-Qrg [ميغن]
١	٣,٠٠	----	٠,١٠٠	٠,٠٤	٠,٣٣٩
٢	٢,٥٠	٧,٠٠	-----	٠,٠٦	٠,٣٩٦
٣	٢,٥٠	١١,٠٠	-----	٠,٠٩	٠,٦٢٢

مجموع قوى الاحتكاك $-Q_{rf}$ [ميغن] = ١,٣٥٧

الحمل على رأس الخازوق $-Q_{ma} + Q_{sp} = Q_v$ [ميغن] = ٠,٨٠٠
 جزء مقاومة احتكاك جذع الخازوق من $-Q_v$ $-Q_{ma}$ [ميغن] = ٠,٥٨١
 جزء مقاومة ارتكاز الخازوق من $-Q_v$ $-Q_{sp}$ [ميغن] = ٠,٢١٩
 الهبوط المتوقع $-s_v$ [سم] = ٠,٥٠

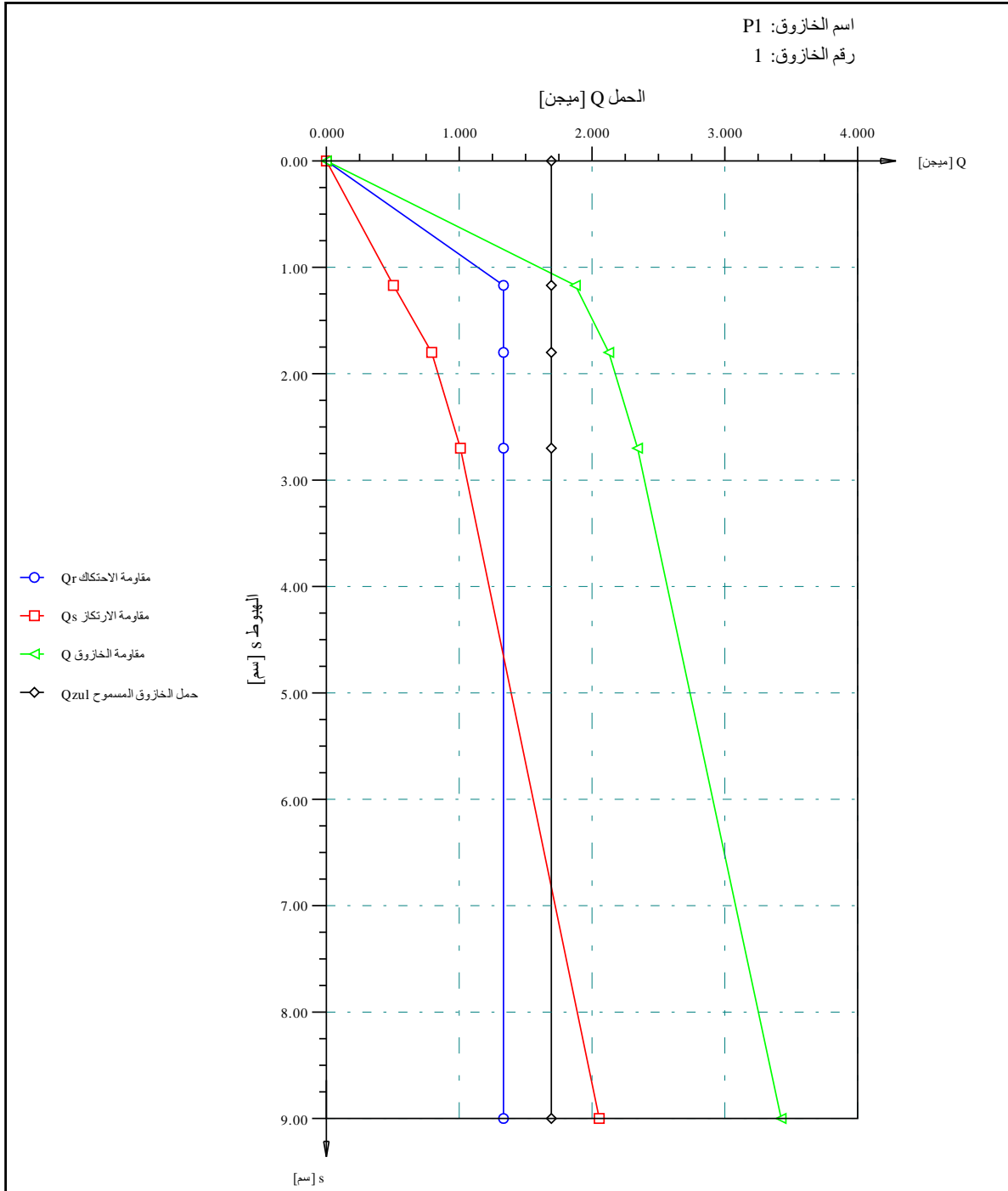
قدرة تحمل وهبوط الخازوق المفرد أو حائط الخوازيق

مقاومة الخازوق اعتماداً على هبوط الخازوق:

رقم	اعتماداً على	هبوط رأس الخازوق	مقاومة احتكاك الخازوق	مقاومة الارتكاز	مقاومة الخازوق
ن	$-s/Df$	$-s$	$-Qr$	$-Qs$	$-Q$
[-]	[-]	[سم]	[ميغن]	[ميغن]	[ميغن]
١	٠,٠١	١,١٨	١,٣٥٧	٠,٥١٠	١,٨٦٧
٢	٠,٠٢	١,٨٠	١,٣٥٧	٠,٧٧٩	٢,١٣٦
٣	٠,٠٣	٢,٧٠	١,٣٥٧	١,٠٠٢	٢,٣٥٩
٤	٠,١٠	٩,٠٠	١,٣٥٧	٢,٠٦٨	$Qg=2*Qzul = ٣,٤٢٥$

النتائج النهائية:

$١,٠٨ =$ [سم]	$-Szu$	١	الهبوط المسموح
$١,٧١٢ =$ [ميغن]	$-Qr+Qs =$	$Qzul$	حمل الخازوق المسموح
$١,٢٤٤ =$ [ميغن]	$-Qr$	جزء مقاومة الاحتكاك على جذع الخازوق	
$٠,٤٦٨ =$ [ميغن]	$-Qs$	جزء مقاومة ارتكاز الخازوق	
$٢,١٤ =$ [-]	$-Qzul/QV =$	ETHA	معامل الأمان



منحنى الحمل-الهبوط للخازوق طبقاً للمواصفات الألمانية DIN 4014

جيوتيك للبرمجيات، كالجاري أب، كندا

ص.ب 14001 ريتشموند رود بو، هاتف: +1 (587) 332-3323

مقياس الرسم: 36
ملف: DIN 4014
رقم الصفحة:

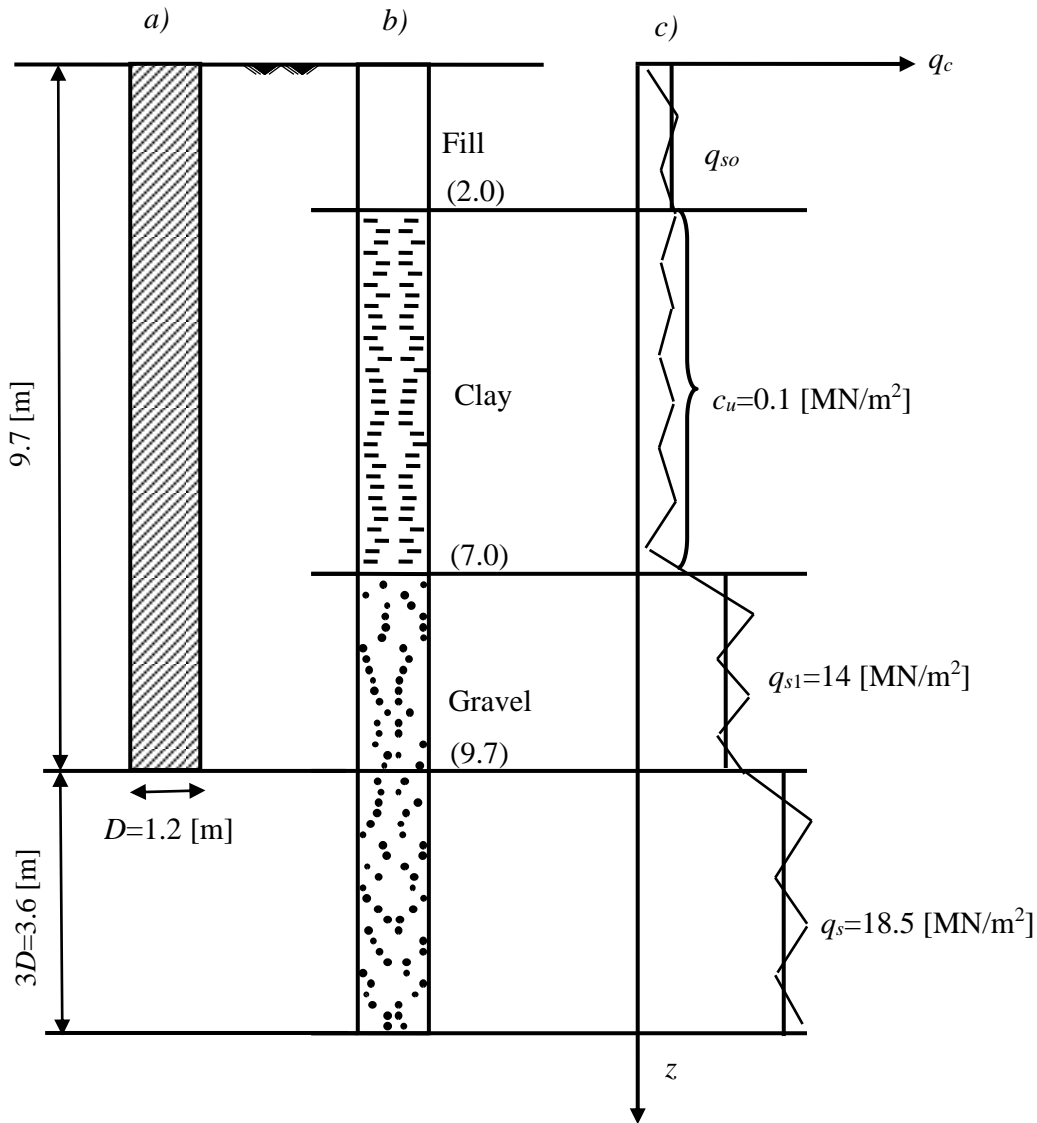
مشروع: Example in Appendix B of DIN 4014

التاريخ: 2015_06_11

العنوان: Bearing capacity and settlement of a single pile

٢-٦ مثال ٢: العلاقة بين الحمل والهبوط لخازوق تنقيب *Simmer* (1999)

للتحقق من العلاقة بين الحمل والهبوط لخازوق تنقيب، تم مقارنة الحمل المسموح به بواسطة *Simmer* (1999)، مثال ٢٣ بصفحة ٣٠٠، في حالة هبوط مناظر قيمته $S = 2.0$ [cm] بنتائج برنامج *إلبلا-السرير*. اختبارات التربة وأبعاد الخازوق موضحة في شكل ١٦ و جدول ٢٠.



شكل ١٦ أ) أبعاد الخازوق ب) جسده في التربة ج) دياگرام اختبار الاختراق بالمخروط

جدول ٢٠ خواص التربة

رقم الطبقة	نوع التربة	سمك الطبقة $L_I(i)$ [m]	مقاومة التربة من اختبار الاختراق بالمخروط CPT $q_s(i)$ [MN/m]	قيمة التماسك الغير محصور $c_u(i)$ [MN/m ²]
1	ردم	2.0	0.05	---
2	طين	5.0	---	0.10
3	زلط	9.7	14.0	---
٤ (أسفل قاعدة الخازوق)	زلط	$3 \times D_f = 3.6$	18.5	---

طريقة الحل

كما هو مبين في شكل ١٦ طبقة الردم السطحية، سمك الطبقة $L_I(1) = 2$ [m]، مقاومة التربة q_{so} من اختبار الاختراق بالمخروط CPT لها ضعيفة جدا، لذلك يمكن إهمال مقاومتها.

في طبقة الطين، سمك الطبقة $L_I(2) = 5$ [m]، الممتدة من عمق من ٢ [م] إلى ٧ [م]، قيمة التماسك الغير المحصور لها هو $c_u(2) = 0.1$ [MN/m²]، يمكن اعتبار جهد الاحتكاك لهذه الطبقة هو $\tau_{mf} = 0.04$ [MN/m] وفقا ل جدول ١٠.

يتم التعبير عن مقاومة الاختراق في طبقة الرمل حتى عمق حوالي ١٣,٣ [م] في شكل المتوسطات q_s و q_{s1} والتي تختص بالأعماق الموضحة في شكل ١٦.

أولا: الحسابات اليدوية

تتم الحسابات اليدوية وفقا للخطوات التالية:

١- حساب أحمال الارتكاز المميزة $Q_s(s)$

مساحة مقطع كعب الخازوق

$$A_f = \frac{\pi D_f^2}{4} = \frac{\pi (1.2)^2}{4} = 1.13 [\text{m}^2]$$

لحساب جهد الارتكاز σ_s يجب الأخذ في الاعتبار تحديد مقاومة التربة q_s عند عمق يعادل ثلاثة أمثال قطر كعب الخازوق ولا يقل عن 1,5 م.

$$Z > D_f > 1.5 \text{ [m]}$$

في المثال هذا العمق يساوي $Z = 3 \times 1.2 = 3.6 \text{ [m]}$ أسفل كعب الخازوق، ومقاومة التربة لهذا العمق هي $q_s = 18.5 \text{ [MN/m}^2\text{]}$. باستخدام جدول ٦ يتم تحديد قيم جهد الارتكاز σ المناظر لمقاومة تربة غير متماسكة مقدار مقاومتها q_s عند نسب هبوط $s/D_f = 0.02, 0.03, 0.10$. وحيث أن q_s هي قيمة متوسطة لقيم الجدول يحسب جهد الارتكاز باستخدام الاستكمال الخطي.

جهد الارتكاز σ المناظر لنسبة هبوط $S/D_f = 0.02$

$$\sigma = 1.05 + (1.4 - 1.05) \frac{20 - 18.5}{20 - 15}$$

$$\sigma = 1.30 \text{ [MN/m}^2\text{]}$$

جهد الارتكاز σ_1 المناظر لنسبة الهبوط $S/D_f = 0.03$

$$\sigma_1 = 1.35 + (1.8 - 1.35) \frac{20 - 18.5}{20 - 15}$$

$$\sigma_1 = 1.67 \text{ [MN/m}^2\text{]}$$

جهد الارتكاز σ_{gr} المناظر لنسبة الهبوط $S/D_f = 0.10$

$$\sigma_{gr} = 3.0 + (3.5 - 3.0) \frac{20 - 18.5}{20 - 15}$$

$$\sigma_{gr} = 3.35 \text{ [MN/m}^2\text{]}$$

وتكون أحمال الارتكاز المميزة عند قاعدة الخازوق $Q_s(s)$ كالآتي:

$$Q_s(s)_1 = \sigma \times A_f = 1.30 \times 1.13 = 1.47 \text{ [MN]}$$

$$Q_s(s)_2 = \sigma_1 \times A_f = 1.67 \times 1.13 = 1.89 \text{ [MN]}$$

$$Q_s(s)_3 = \sigma_{gr} \times A_f = 3.35 \times 1.13 = 3.79 \text{ [MN]}$$

أما الهبوط المقابل لأحمال الارتكاز المميزة عند قاعدة الخازوق محسوبا كنسبة مئوية من قطر كعب الخازوق فيحسب كالتالي:

$$s_1 = 0.02D_f = 0.02 \times 1.2 = 0.0024 \text{ [m]} = 2.4 \text{ [cm]}$$

$$s_2 = 0.03D_f = 0.03 \times 1.2 = 0.0036 \text{ [m]} = 3.6 \text{ [cm]}$$

$$s_3 = 0.10D_f = 0.10 \times 1.2 = 0.1200 \text{ [m]} = 12.0 \text{ [cm]}$$

حيث الهبوط s_g يعتبر الهبوط الأقصى نتيجة حمل الارتكاز المميز. من قيم أحمال الارتكاز المميزة والهبوط المناظر يتم رسم العلاقة $abcd$ بين حمل الارتكاز عند قاعدة العمود والهبوط المناظر لها.

ب- حساب قوة الاحتكاك المميزة Q_{rg}

مساحة الاحتكاك الجانبية لجذع الخازوق على المتر الطولي

$$A_m = \pi D_f \times 1.0 = 1.2\pi \times 1.0 = 3.77 \text{ [m}^2/\text{m]}$$

نظرا لضعف طبقة الردم العلوية يتم إهمالها عند حساب أحمال الاحتكاك على جذع الخازوق.

حمل الاحتكاك لطبقة الطين Q_{rg1} طول جذع الخازوق المار في طبقة الطين $L_1 = 5.0 \text{ [m]}$ قوى التماسك الغير المحصورة $c_{u1} = 0.1 \text{ [MN/m}^2\text{]}$

باستخدام جدول ١٠ يمكن حساب جهد الاحتكاك الأقصى τ_{mf1} لجذع الخازوق المار في التربة الطينية. من جدول ١٠ نجد أن جهد الاحتكاك الأقصى τ_{mf1} المناظر لقيمة التماسك $c_{u1} = 0.1 \text{ [MN/m}^2\text{]}$ هو:

$$\tau_{mf1} = 0.04 \text{ [MN/m}^2\text{]}$$

وبهذا يكون حمل الاحتكاك الأقصى لطبقة الطين هو:

$$Q_{rg1} = \tau_{mf1} \times A_m \times L_1 = 0.04 \times 3.77 \times 5.0 = 0.75 \text{ [MN]}$$

حمل الاحتكاك لطبقة الزلط أعلى قاعدة الخازوق Q_{rg2} طول جذع الخازوق المار في طبقة الزلط $L_2 = 2.70 \text{ [m]}$ مقاومة التربة المحسوبة من اختبار الاختراق $q_{s2} = 14 \text{ [MN/m}^2\text{]}$

باستخدام جدول ٩ يمكن حساب جهد الاحتكاك الأقصى τ_{mf2} على جذع الخازوق المار في التربة الغير متماسكة الحبيبات بدلالة مقاومة التربة المحسوبة من اختبار الاختراق q_{s2} . من جدول ٩ نجد أن $q_{s2} = 14 \text{ [MN/m}^2\text{]}$ هي قيمة متوسطة لقيم الجدول لذلك يحسب جهد الاحتكاك الأقصى باستخدام الاستكمال الخطي.

$$\tau_{mf2} = 0.08 + (0.12 - 0.08) \frac{15 - 14}{15 - 10}$$

$$\tau_{mf2} = 0.112 \text{ [MN/m}^2\text{]}$$

وبهذا يكون حمل الاحتكاك الأقصى لطبقة الزلط هو:

$$Q_{rg2} = \tau_{mf2} \times A_m \times L_2 = 0.112 \times 3.77 \times 2.7 = 1.12 \text{ [MN]}$$

ويكون حمل الاحتكاك الكلي هو:

$$Q_{rg} = Q_{rg_2} + Q_{rg_2} = 0.75 + 1.12 = 1.87 \text{ [MN]}$$

ويحسب الهبوط S_{rg} المناظر لحمل الاحتكاك الكلي Q_{rg} من العلاقة.

$$s_{rg} = 0.5Q_{rg} \text{ (in [MN])} + 0.5 < 3 \text{ [cm]}$$

$$s_{rg} = 0.5 \times 1.87 + 0.5 = 1.4 \text{ [cm]}$$

من قيم حمل الاحتكاك Q_{rg} والهبوط المناظر s_{rg} يتم رسم العلاقة oef بين حمل الاحتكاك على جذع الخازوق والهبوط المناظر له. بتجميع العلاقتين الناتجتين من حمل ارتكاز العمود و حمل الاحتكاك يلزم معرفة الحمل $Q_s(s)$ المناظر لهبوط مقداره $= 1.4$ s_{rg} [cm] على المنحنى $obcd$ حيث يمكن حسابه من

$$Q_s(s) = \frac{s_{rg}}{s_1} \times Q_s(s)_1$$

$$Q_s(s) = \frac{1.4}{2.4} \times 1.47 = 0.86 \text{ [MN]}$$

العلاقات بين حمل الارتكاز، حمل الاحتكاك، الحمل الكلي والهبوط موضحة في جدول ٥ وكذلك في شكل (٢).

جدول ٢١ حمل الخازوق مع الهبوط المناظر

الهبوط كنسبة من قطر كعب الخازوق $\frac{S}{D_f}$ [-]	هبوط رأس الخازوق S [cm]	حمل الارتكاز $Q_s(s)$ [MN]	حمل الاحتكاك $Q_r(s)$ [MN]	الحمل الكلي $Q(s)$ [MN]
0.012	1.40	0.86	1.87	2.73
0.02	2.40	1.47	1.87	3.34
0.03	3.60	1.89	1.87	3.76
$0.10 = S_g$	12.00	3.79	1.87	$5.66 = Q_g$

الحمل الآمن للخازوق

من جدول ٥ يكون الحمل الكلي الأقصى للخازوق هو:

$$Q_g = 5.66 \text{ [MN]}$$

و الحمل الآمن المسموح به للخازوق يمكن إيجاده بقسمة الحمل الكلي الأقصى على معامل آمان $\eta = 2.0$

$$Q_{zul} = \frac{Q_g}{\eta}$$

$$Q_{zul} = \frac{5.66}{2.0} = 2.83 \text{ [MN]}$$

ويحسب الهبوط الآمن S_{zul} المسموح به والمناظر للحمل الآمن من العلاقة الكلية بين الحمل والهبوط في شكل (٢)

$$s_{zul} = s(1) + (Q_{zul} - Q(1)) \frac{s(2) - s(1)}{Q(2) - Q(1)}$$

$$s_{zul} = 1.4 + (2.83 - 2.73) \frac{2.4 - 1.4}{3.34 - 2.73}$$

$$s_{zul} = 1.56[\text{cm}]$$

ويحسب الحمل المناظر لهبوط مقداره $S = 2.0$ [cm] من منحنى العلاقة الكلية بين الحمل والهبوط كالتالي:

$$Q_v = Q(1) + (Q(2) - Q(1)) \frac{s - s(1)}{Q(2) - Q(1)}$$

$$Q_v = 2.73 + (3.34 - 2.73) \frac{2.0 - 1.4}{2.4 - 1.4}$$

$$Q_v = 3.10[\text{MN}] > Q_{zul}$$

وهو أكبر من الحمل المسموح به

ثانياً: الحل باستخدام إبلاّ-السريع

يتم عرض بيانات المدخلات والنتائج من إبلاّ-السريع على الصفحات التالية. صفحتان من بيانات المدخلات، والنتائج المتوسطة والنهائية، فضلاً عن صفحة من الرسم البياني ملونة وذلك على سبيل المقارنة، يمكن للمرء أن يرى اتفاقاً جيداً مع الحسابات اليدوية.

أبلاّ السريع

إصدار ١٠

تأليف Prof. M. El Gendy/ Dr. A. El Gendy

قدرة تحمل وهبوط الخازوق المفرد أو حائط الخوازيق

العنوان: Bearing capacity and settlement of a single pile

التاريخ: ٢٠١٥_٠٦_١١

مشروع: Grundbau Teil 2, Simmer (1999) Example 23, Page 300

ملف: (Simmer (1999

قدرة تحمل وهبوط خازوق مفرد

منحنى الحمل-الهبوط للخازوق طبقاً للمواصفات الألمانية DIN 4014

معطيات:

١,٢٠ =	[م]	-D	قطر الخازوق
١,٢٠ =	[م]	-Df	قطر كعب الخازوق
٧,٧٠ =	[م]	-Lg	طول الخازوق
P1 =	[-]	-Pz	اسم الخازوق
١ =	[-]	-=Ipf	رقم الخازوق

ملخص النتائج

معطيات التربة أسفل ارتكاز الخازوق:

مقاومة التربة من اختبار المخروط أسفل ارتكاز الخازوق $-q_s$ [ميغن/م^٢] = ١٨,٥٠

جهد ارتكاز الخازوق (طبقاً للمواصفات الألمانية DIN 4014 جدول ١)

١,٣٠ =	[ميغن/م ^٢]	$-s/Df = 0.02$	Sig
١,٦٧ =	[ميغن/م ^٢]	$-s/Df = 0.03$	Sig1
٣,٣٥ =	[ميغن/م ^٢]	$-s/Df = 0.10$	SigGR

النتائج الوسيطة

الاحتكاك على جذع الخازوق:

طبقة	سمك	مقاومة التربة	تماسك	الاحتكاك	قوة
------	-----	---------------	-------	----------	-----

رقم	الطبقة	من اختبار	التربة	على جذع	الاحتكاك
ن	-L1	-qs	-Cu	-Tau	-Qrg
[-]	[م]	[ميغن/م ٢]	[ميغن/م ٢]	[ميغن/م ٢]	[ميغن]
١	٥,٠٠	----	٠,١٠٠	٠,٠٤	٠,٨
٢	٢,٧٠	١٤,٠٠	-----	٠,١١	١,١

رقم	مجموع قوى الاحتكاك	-Qrf	[ميغن] =
			١,٩ =
	الحمل على رأس الخازوق	-Qma+Qsp = Qv	٣,١ = [ميغن]
	جزء مقاومة احتكاك جذع الخازوق من	-Qma -Qv	١,٩ = [ميغن]
	جزء مقاومة ارتكاز الخازوق من	-Qsp -Qv	١,٢ = [ميغن]
	الهبوط المتوقع	-sv	١,٩٨ = [سم]

مقاومة الخازوق اعتماداً على هبوط الخازوق:

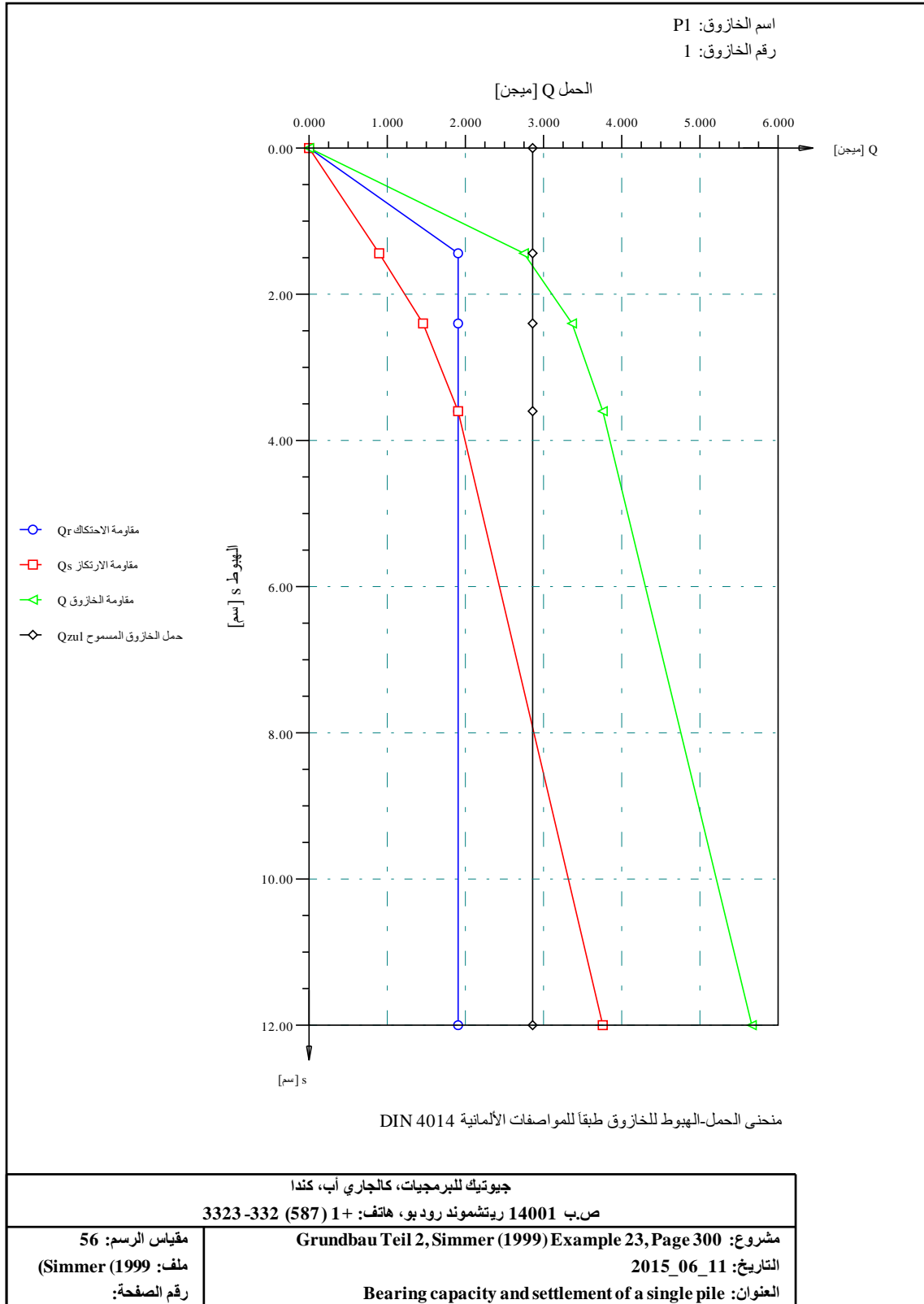
رقم	اعتماداً على	هبوط رأس الخازوق	مقاومة احتكاك الخازوق	مقاومة الارتكاز	مقاومة الخازوق
ن	-s/Df	-s	-Qr	-Qs	-Q
[-]	[-]	[سم]	[ميغن]	[ميغن]	[ميغن]
١	٠,٠١	١,٤٥	١,٩	٠,٩	٢,٨
٢	٠,٠٢	٢,٤٠	١,٩	١,٥	٣,٤
٣	٠,٠٣	٣,٦٠	١,٩	١,٩	٣,٨
٤	٠,١٠	١٢,٠٠	١,٩	٣,٨	Qg=2*Qzul = ٥,٧

النتائج النهائية:

رقم	الهبوط المسموح	-Szul	[سم] =
	حمل الخازوق المسموح	-Qr+Qs = Qzul	٢,٨ = [ميغن]
	جزء مقاومة الاحتكاك على جذع الخازوق	-Qr	١,٩ = [ميغن]

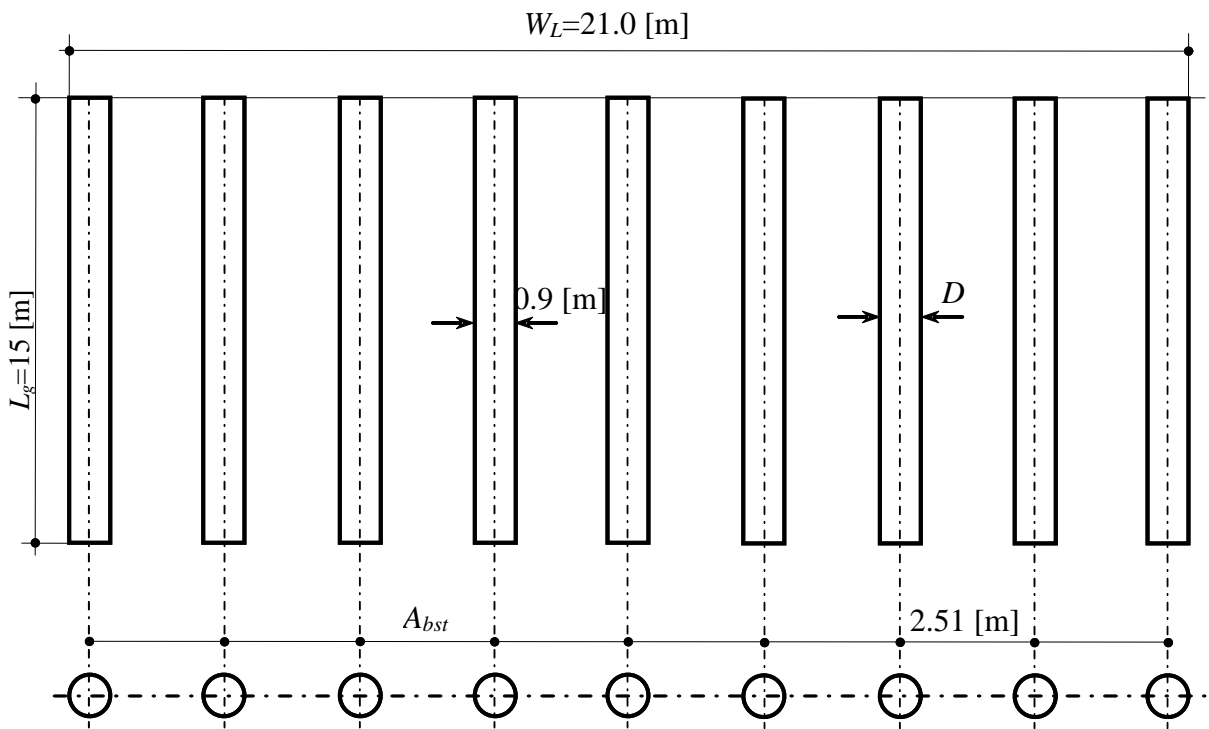
قدرة تحمل وهبوط الخازوق المفرد أو حائط الخوازيق

٠,٩ = [ميغن]	-Qs	جزء مقاومة ارتكاز الخازوق
٠,٩٢ = [-]	-Qzul/QV = ETHA	معامل الأمان



٣-٦ مثال ٣: العلاقة بين الحمل والهبوط لحائط خوازيق

المطلوب تحديد العلاقة بين الحمل و الهبوط لحائط خوازيق طوله $W_L = 21.0$ [m] لمجموعة من الخوازيق عددها $N_{pf} = 9$ طول الخازوق $L_g = 15.0$ [m] و قطره $D = 0.9$ [m]. الحمل المتوقع على الخازوق $Q_v = 0.5$ [MN]. تتكون التربة حتى عمق 18.0 [m] من الرمل المفكك. تم تحديد مقاومة التربة على طول جذع الخازوق من اختبار المخروط وكانت $q_{s1} = 2.5$ [MN/m²] بينما كانت مقاومة التربة أسفل ارتكاز الخازوق $q_{s2} = 8$ [MN/m²].



شكل ١٧ حائط خوازيق

أولاً: الحسابات اليدوية

تتم الحسابات اليدوية وفقاً للخطوات التالية:

١- حساب أحمال الارتكاز المميزة $Q_s(s)$

مساحة مقطع كعب الخازوق

$$A_f = \frac{\pi D_f^2}{4} = \frac{\pi (0.9)^2}{4} = 0.636 [\text{m}^2]$$

لحساب جهد الارتكاز σ_s يجب الأخذ في الاعتبار تحديد مقاومة التربة q_s عند عمق يعادل ثلاثة أمثال قطر كعب الخازوق ولا يقل عن ١,٥ م.

$$Z > D_f > 1.5 [\text{m}]$$

في المثال هذا العمق يساوي $Z = 3 \times 0.9 = 2.7 [\text{m}]$ أسفل كعب الخازوق، ومقاومة التربة لهذا العمق هي $q_{s2} = 8 [\text{MN/m}^2]$. باستخدام جدول ١ يتم تحديد قيم جهد الارتكاز σ المناظر لمقاومة تربة غير متماسكة مقدار مقاومتها q_{s2} عند نسب هبوط $s/D_f = 0.02, 0.03, 0.10$. وحيث أن q_{s2} هي قيمة متوسطة لقيم الجدول يحسب جهد الارتكاز باستخدام الاستكمال الخطي.

جهد الارتكاز σ المناظر لنسبة هبوط $S/D_f = 0.02$

$$\sigma = 0.7 \times \frac{8}{10}$$

$$\sigma = 0.56 [\text{MN/m}^2]$$

جهد الارتكاز σ_1 المناظر لنسبة الهبوط $S/D_f = 0.03$

$$\sigma_1 = 0.9 \times \frac{8}{10}$$

$$\sigma_1 = 0.72 [\text{MN/m}^2]$$

جهد الارتكاز σ_{gr} المناظر لنسبة الهبوط $S/D_f = 0.10$

$$\sigma_{gr} = 2.0 \times \frac{8}{10}$$

$$\sigma_{gr} = 1.6 [\text{MN/m}^2]$$

معامل التخفيض

تنص المواصفات الألمانية على أنه عند حساب الحمل عند قاعدة ارتكاز الخازوق لا يكون شكل مقطعه دائري مثلما هو الحال في الحوائط الخازوقية تخفض القيم المستخدمة من جدول ٥ و جدول ٦ بواسطة معامل تخفيض ν يعتمد على نسبة بعدي مقطع الخازوق.

نسبة بعدي مقطع الخازوق

$$\frac{W_l}{D_f} = \frac{21}{0.9} = 23.33 [-] > 5$$

من جدول ١١ فإن معامل التخفيض يكون

$$\nu = 0.6 [-]$$

وتتكون إجهادات الارتكاز بعد التخفيض كالآتي:

$$\sigma = 0.6 \times 0.56 = 0.336 [\text{MN/m}^2]$$

$$\sigma_1 = 0.6 \times 0.72 = 0.432 [\text{MN/m}^2]$$

$$\sigma_{gr} = 0.6 \times 1.6 = 0.96 [\text{MN/m}^2]$$

وتكون أحمال الارتكاز عند قاعدة الخازوق $Q_s(s)$ كالآتي:

$$Q_s(s)_1 = \sigma \times A_f = 0.336 \times 0.636 = 0.214 [\text{MN}]$$

$$Q_s(s)_2 = \sigma_1 \times A_f = 0.432 \times 0.636 = 0.275 [\text{MN}]$$

$$Q_s(s)_3 = \sigma_{gr} \times A_f = 0.96 \times 0.636 = 0.611 [\text{MN}]$$

أما الهبوط المقابل لحمل الارتكاز عند قاعدة الخازوق محسوبا كنسبة مئوية من قطر كعب الخازوق فيحسب كالتالي:

$$s_1 = 0.02D_f = 0.02 \times 0.9 = 0.018 [\text{m}] = 1.80 [\text{cm}]$$

$$s_2 = 0.03D_f = 0.03 \times 0.9 = 0.027 [\text{m}] = 2.70 [\text{cm}]$$

$$s_3 = 0.10D_f = 0.10 \times 0.9 = 0.090 [\text{m}] = 9.00 [\text{cm}]$$

حيث الهبوط s_g يعتبر الهبوط الأقصى نتيجة حمل الارتكاز.

من قيم حمل الارتكاز والهبوط المناظر يتم رسم العلاقة $abcd$ بين حمل الارتكاز عند قاعدة العمود والهبوط المناظر لها.

المساحة السطحية لجذع الخازوق على المتر الطولي

المساحة السطحية الكلية لحائط الخوازيق

$$u_w = (\pi D_f + (W_l - D_f) \times 2,0) \times 1,0$$

$$u_w = (0,9 \times \pi + (21 - 0,9) \times 2,0) \times 1,0 = 43.027 [\text{m}^2/\text{m}]$$

المساحة السطحية الفعالة لجذع الخازوق المفرد

$$u = \frac{u_w}{N_{pf}} = \frac{43.027}{9} = 4.781 \text{ [m}^2\text{]}$$

وتكون مساحة الاحتكاك الجانبية لجذع الخازوق على المتر الطولي

$$Q_{rg} = \tau_{mf} \times A_m \times L = 0.02 \times 4.781 \times 15 = 1.4343 \text{ [MN]}$$

حساب حمل الاحتكاك لطبقة الرمل Q_{rg}

طول جذع الخازوق المار في طبقة الرمل المفكك

$$L = 15.0 \text{ [m]}$$

مقاومة التربة المحسوبة من اختبار الاختراق للمخروط

$$q_{s1} = 2.5 \text{ [MN/m}^2\text{]}$$

باستخدام جدول ٩ يمكن حساب جهد الاحتكاك الأقصى τ_{mf} على جذع الخازوق المار في التربة الغير متماسكة الحبيبات

بدلالة مقاومة التربة المحسوبة من اختبار الاختراق q_{s1}

من جدول ٩ نجد أن $q_{s1} = 2.5 \text{ [MN/m}^2\text{]}$ هي قيمة متوسطة لقيم الجدول لذلك يحسب جهد الاحتكاك الأقصى باستخدام الاستكمال الخطي

$$\tau_{mf1} = 0.04 \times \frac{2.5}{5.0} = 0.02 \text{ [MN/m}^2\text{]}$$

وبهذا يكون حمل الاحتكاك الأقصى لطبقة الرمل المفكك هو:

$$Q_{rg} = \tau_{mf} A_m L$$

$$Q_{rg} = 0.02 \times 4.781 \times 15 = 1.4343 \text{ [MN]}$$

ويحسب الهبوط s_{rg} المناظر لحمل الاحتكاك Q_{rg} من العلاقة:

$$s_{rg} = 0.5Q_{rg} \text{ (in [MN])} + 0.5 < 3 \text{ [cm]}$$

$$s_{rg} = 0.5 \times 1.4343 + 0.5 = 1.217 \text{ [cm]}$$

من قيم حمل الاحتكاك Q_{rg} والهبوط المناظر s_{rg} يتم رسم العلاقة oef بين حمل الاحتكاك على جذع الخازوق والهبوط المناظر له.

بتجميع العلاقتين الناتجتين من حمل ارتكاز العمود وحمل الاحتكاك يلزم معرفة الحمل Q_{srg} المناظر لهبوط مقداره $s_{rg} = 1.217$ [cm] على المنحنى $abcd$ حيث يمكن حسابه من:

$$Q_{srg} = \frac{s_{rg}}{s_1} Q_s(s)_1$$

$$Q_{srg} = \frac{1.217}{1.8} \times 0.214 = 0.145 [\text{MN}]$$

العلاقة بين حمل الارتكاز, حمل الاحتكاك, الحمل الكلي و الهبوط موضحة في جدول ٦ وكذلك في شكل (٢)

الهبوط كنسبة من قطر كعب الخازوق s/D_f	هبوط رأس الخازوق s [cm]	حمل الارتكاز $Q_s(s)$ [MN]	حمل الاحتكاك $Q_r(s)$ [MN]	الحمل الكلي $Q(s)$ [MN]
0.0135	1.217	0.145	1.4343	1.5793
0.02	1.80	0.214	1.4343	1.6483
0.03	2.70	0.275	1.4343	1.7093
$S_g = 0.10$	9.0	0.611	1.4343	$2.0453 = Q_g$

الحمل الآمن للخازوق

من جدول ٦ يكون الحمل الكلي الأقصى للخازوق هو:

$$Q_g = 2.0453 [\text{MN}]$$

والحمل الآمن المسموح به للخازوق يمكن إيجاده بقسمة الحمل الكلي الأقصى على معامل الأمان $\eta = 2.0$

$$Q_{zul} = \frac{Q_g}{\eta} = \frac{2.0453}{2.0} = 1.023 [\text{MN}]$$

ويحسب الهبوط الآمن s_{zul} المسموح به والمناظر للحمل الآمن من العلاقة الكلية بين الحمل والهبوط في شكل (٢)

$$s_{zul} = s(1) - \frac{Q(1) - Q_{zul}}{Q(1)} s(1)$$

$$s_{zul} = 1.217 - \frac{1.579 - 1.023}{1.579} \times 1.217$$

$$s_{zul} = 0.788 [\text{cm}]$$

$$\eta = \frac{Q_{zul}}{Q_u} = \frac{1.023}{0.5}$$
$$\eta = 2.046$$

ثانيا: الحل باستخدام إلبآ-السريع

يتم عرض بيانات المدخلات والنتائج من إلبآ-السريع على الصفحات التالية. صفحتان من بيانات المدخلات، والنتائج المتوسطة والنهائية، فضلا عن صفحة من الرسم البياني ملونة وذلك على سبيل المقارنة، يمكن للمرء أن يرى اتفاقا جيدا مع الحسابات اليدوية.

ألبلاً السريع

إصدار ١٠

تأليف Prof. M. El Gendy/ Dr. A. El Gendy

العنوان: Bearing capacity of pile wall

التاريخ: ٢٠١٧/٠٦/٢٧

مشروع: User's Manual

ملف: PileWall

قدرة تحمل وهبوط حائط الخوازيق
طبقاً للمواصفات الألمانية DIN 4014

معطيات:

٠,٩ =	[م]	-D	قطر الخازوق
٠,٩ =	[م]	-Df	قطر كعب الخازوق
١٥,٠ =	[م]	-Lg	طول الخازول
٩ =	[-]	-Npf	عدد الخوازيق
٢١,٠ =	[م]	-Wl	عرض الحائط
٢,٥ =	[م]	-Abst	مسافة الخوازيق

ملخص النتائج

معطيات التربة أسفل ارتكاز الخازوق:

مقاومة التربة من اختبار المخروط أسفل ارتكاز الخازوق q_s [ميغن/م^٢] = ٨,٠٠

جهد ارتكاز الخازوق (طبقاً للمواصفات الألمانية DIN 4014 جدول ١)

٠,٦٠٠ =	[-]	-Pabmin	تخفيض مقاومة ارتكاز الخازوق إلى
٠,٣٤ =	[ميغن/م ^٢]	-s/Df = 0.02	Sig
٠,٤٣ =	[ميغن/م ^٢]	-s/Df = 0.03	Sig1
٠,٩٦ =	[ميغن/م ^٢]	-s/Df = 0.10	SigGR

النتائج الوسيطة
جهد الاحتكاك على جذع الخازوق:

طبقة رقم	سمك الطبقة	مقاومة اختراق الارتكاز الغير محصور	تماسك التربة على جذع الخازوق	جهد الاحتكاك	قوة الاحتكاك
ن	-L1 [م]	-qs [ميغن/م/٢]	-Cu [ميغن/م/٢]	-Tau [ميغن/م/٢]	-Qrg [ميغن]
١	١٥,٠	٢,٥٠	----	٠,٠٢	١,٤٣

مجموع قوى الاحتكاك $-Q_{rf}$ [ميغن] = ١,٤٣

الحمل على رأس الخازوق $-Q_{ma} + Q_{sp} = Q_v$ [ميغن] = ٠,٥٠
جزء مقاومة احتكاك جذع الخازوق من $-Q_v$ $-Q_{ma}$ [ميغن] = ٠,٤٥
جزء مقاومة ارتكاز الخازوق من $-Q_v$ $-Q_{sp}$ [ميغن] = ٠,٠٥
الهبوط المتوقع $-s_v$ [سم] = ٠,٣٩

مقاومة الخازوق اعتماداً على هبوط الخازوق:

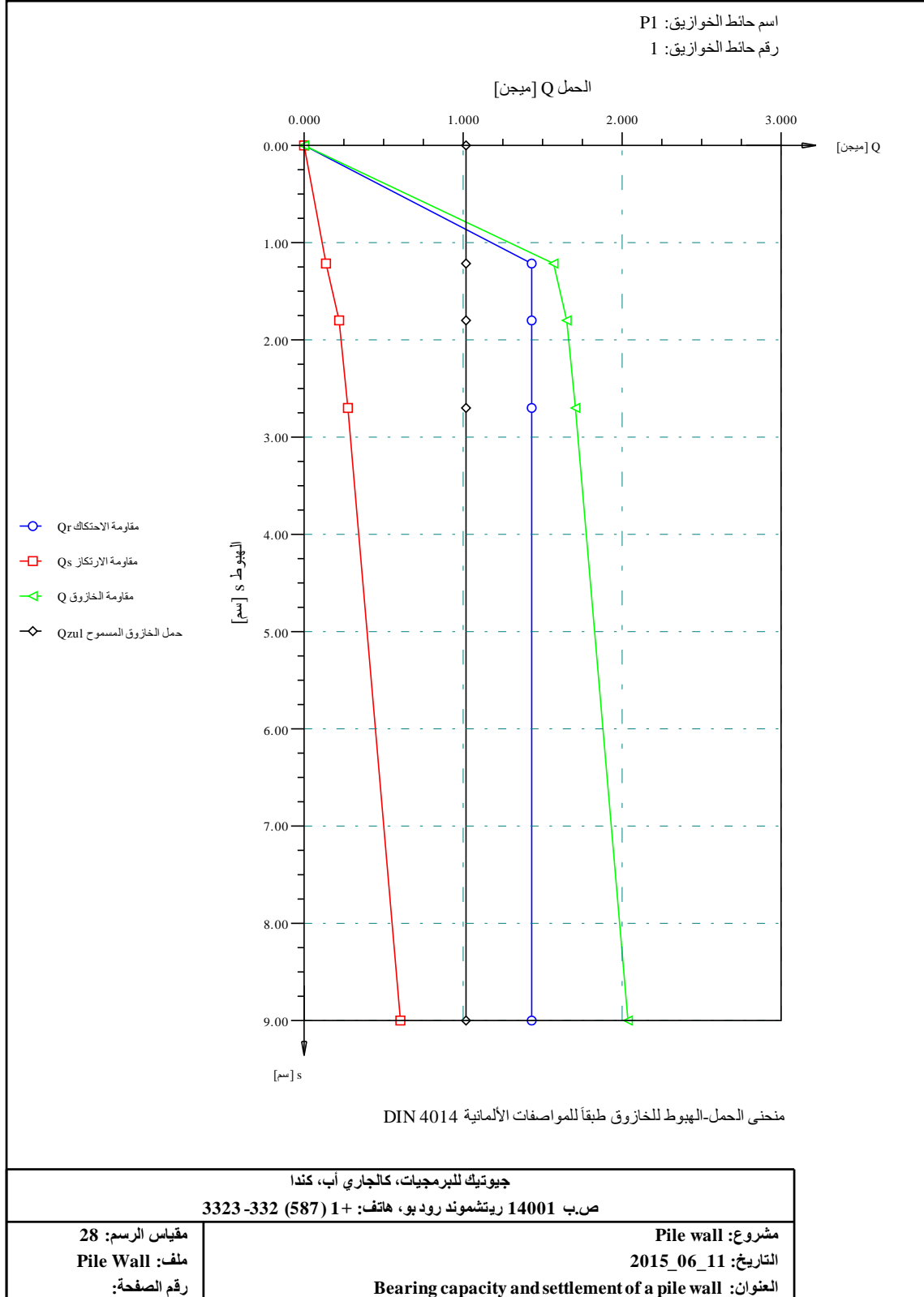
رقم	اعتماداً على	هبوط رأس الخازوق	مقاومة احتكاك الخازوق	مقاومة الارتكاز	مقاومة الخازوق
ن	-s/Df [-]	-s [سم]	-Qr [ميغن]	-Qs [ميغن]	-Q [ميغن]
١	٠,٠١٤	١,٢٢	١,٤٣	٠,١٤	١,٥٨
٢	٠,٠٢٠	١,٨٠	١,٤٣	٠,٢١	١,٦٥
٣	٠,٠٣٠	٢,٧٠	١,٤٣	٠,٢٧	١,٧١
٤	٠,١٠٠	٩,٠٠	١,٤٣	٠,٦١	٢,٠٤ = $Q_g = 2 * Q_{zul}$

النتائج النهائية:

الهبوط المسموح $-S_{zul}$ [سم] = ٠,٧٩
حمل الخازوق المسموح $-Q_r + Q_s = Q_{zul}$ [ميغن] = ١,٠٢
جزء مقاومة الاحتكاك على جذع الخازوق $-Q_r$ [ميغن] = ٠,٩٣

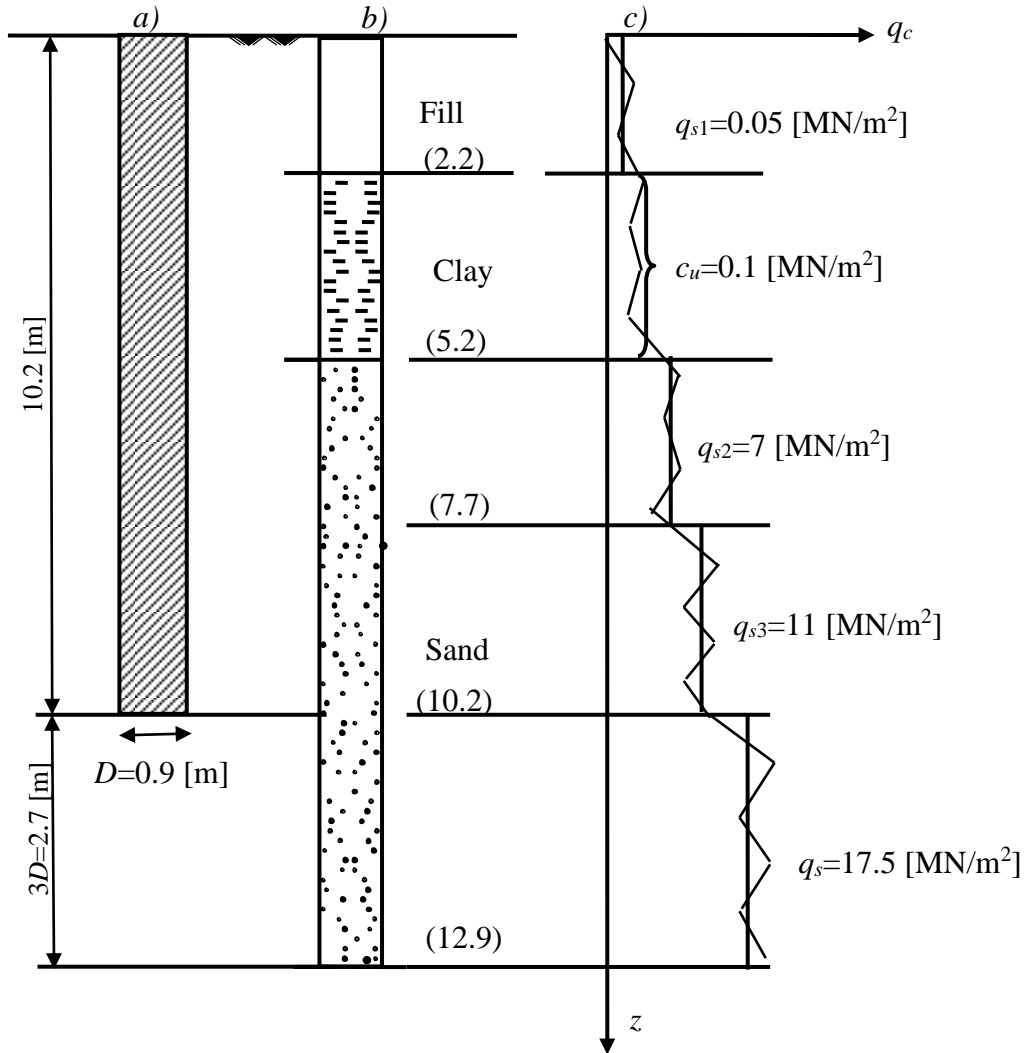
قدرة تحمل وهبوط الخازوق المفرد أو حائط الخوازيق

جزء مقاومة ارتكاز الخازوق $-Q_s$ [ميغن] = ٠,٠٩
 معامل الأمان $-Q_{zul}/Q_V = ETHA$ [-] = ٢,٠٤٥



٤-٦ مثال ٤: العلاقة بين الحمل والهبوط لخازوق تنقيب *EA-Piles*

للتحقق من العلاقة بين الحمل والهبوط لخازوق تنقيب من قبل برنامج إبلاّ-السريع طبقا للتوصيات الألمانية *EA-Piles*، يتم اختيار المثال الموجود بملحق B من *DIN 4014*. يلخص شكل ١٨ المعلومات المتعلقة بنوع التربة ومقاومة التربة وأبعاد الخازوق المطلوبة لتحديد قدرة تحمله النهائية $R_{c,k}(s)$.



شكل ١٨ أ) أبعاد الخازوق ب) جسده في التربة ج) دياگرام اختبار الاختراق بالمخروط

أولاً: الحسابات اليدوية

تتم الحسابات اليدوية لتحديد منحنى المقاومة المميزة باستخدام بيانات الجدول بعد ٥,٤,٦ من "EA-Piles" (الجدول من ١٢-٥ إلى ١٥-٥).

الحسابات باستخدام قيم الجداول الدنيا والعظمى

ملاحظة: يشار إلى مبادئ التطبيق والقيود الواردة في ٥-٤-٣ من "EA-Piles"، ولا سيما فيما يتعلق بقيم الجدول العظمى. في المثال المعروض هنا يتم استخدام كل من قيم الجدول الدنيا والعظمى كأمثلة وليس كقاعدة.

حساب أحمال احتكاك الخازوق المميزة $R_{s,k}$

القيم النهائية لأحمال الاحتكاك للخازوق في طبقتي الرمل والطين يمكن الحصول عليها من الجدولين ١٣-٥ و ١٥-٥ في الفقرة ٥,٤,٦,٢ من "EA-Piles". من خلال اعتماد مناطق الاحتكاك على جذع الخازوق المرتبطة بها، يتم الحصول على مقاومات الاحتكاك $R_{s,k,i}$ الواردة في جدول ٢٢.

ويحسب الهبوط s_{sg} بوحدات [cm] من حمل الاحتكاك الكلي الأقصى $R_{s,k}$ بوحدات [MN] على النحو التالي:

$$s_{sg} = 0,50 \times R_{s,k} + 0,50$$

أي أن قيم الهبوط الدنيا والعظمى لرأس الخازوق هي:

$$s_{sg} = 0,50 \times 1,243 + 0,50 = 1,1 \text{ [cm]}$$

للقيم الدنيا للجدول

$$s_{sg} = 0,50 \times 1,726 + 0,50 = 1,4 \text{ [cm]}$$

للقيم العظمى للجدول

جدول ٢٢ حمل احتكاك الخازوق مع الهبوط المناظر للقيم الدنيا والعظمى معا

رقم الطبقة [-]	مساحة جذع الخازوق $A_{s,i}$ [m ²]	مقاومة التربة من $q_{c,i}$ أو $c_{u,k,i}$ [MN/m ²]	جهد الاحتكاك $q_{s,k,i}$ [MN/m ²]	حمل الاحتكاك $R_{s,k,i}$ [MN]
2,20 - 5,20	8,48	0,10	0,039-0,051	0,331-0,432
5,20 - 7,70	7,07	7,00	0,051-0,075 ^{a)}	0,361-0,530
7,70 - 10,20	7,07	11,00	0,078-0,108	0,551-0,764
^{a)} Extrapolated data				$R_{s,k} = 1,243-1,726$ [MN]

حساب أحمال ارتكاز الخازوق المميزة $R_{b,k}$

يتم اعتماد متوسط قوة التربة في منطقة من $1 \times D$ (0,9 m) أعلى قاعدة الخازوق و المنطقة $3 \times D$ ($3 \times D = 2,70$ m) أسفل قاعدة الخازوق لتحديد مقاومة ارتكاز الخازوق $R_{b,k}$. في هذه المنطقة، متوسط مقاومة التربة من اختبار الاختراق بالمخروط CPT هو $q_{c,m} = 17,5$ [MN/m²] كما هو موضح في شكل ١٨.

ويمكن حساب مقاومة ارتكاز الخازوق باعتماد القيم الواردة في الجدول ٥-١٢ في الفقرة ٥-٦-٦-٢ من "EA-Piles" طبقا للقيمة المحددة سابقا للقيمة المتوسطة لمقاومة التربة من اختبار الاختراق بالمخروط CPT هي $q_{c,m} = 17,5$ [MN/m²]. الجدول التالي يعرض الحسابات المستنتجة:

جدول ٢٣ حمل ارتكاز الخازوق مع الهبوط المناظر للقيم الدنيا والعظمى معا

الهبوط كنسبة من قطر كعب الخازوق s/D [-]	جهد الارتكاز $q_{b,k}$ [MN/m ²]	حمل الارتكاز $R_{b,k(s)}$ [MN]
0,02	1,225-1,625	0,784-1,040
0,03	1,575-2,088	1,008-1,336
0,10	3,250-4,325	2,080-2,768

منحنى الحمل-الهبوط للخازوق

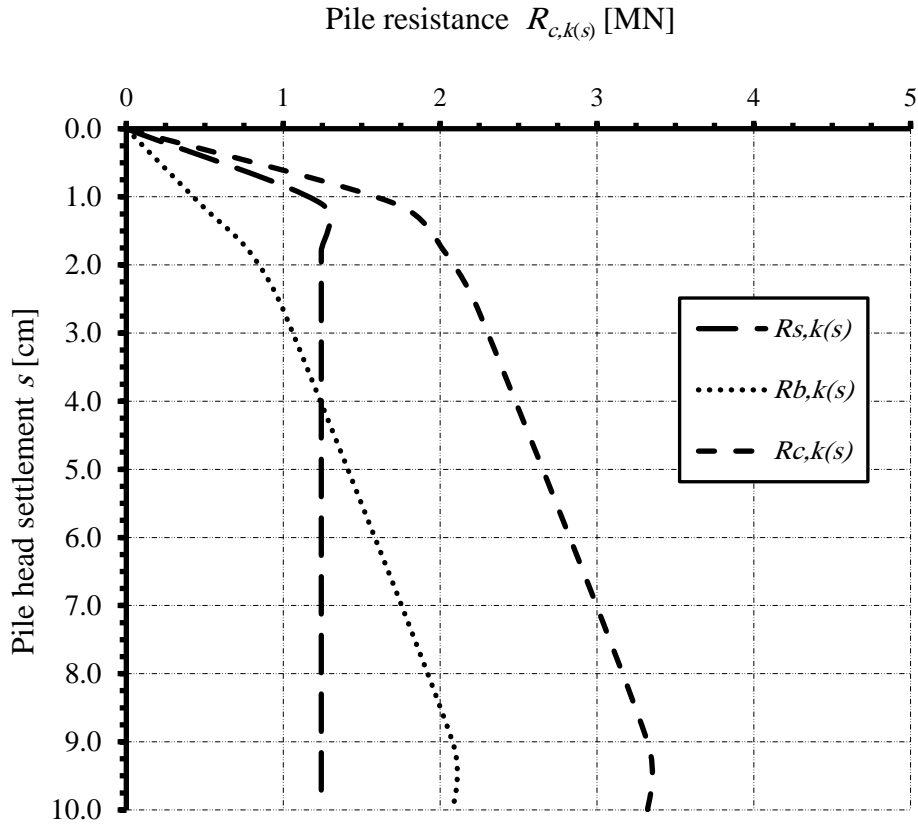
يتم عرض مقاومات الأحمال للخازوق المحسوبة لأحمال ارتكاز الخازوق والاحتكاك على جذع الخازوق في جدول ٢٤ و جدول ٢٥ مع الهبوط كنسبة من قطر كعب الخازوق في حالي القيم الدنيا والعظمى. بينما شكل ١٩ و شكل ٢٠ يوضحان منحنى الحمل-الهبوط للخازوق في الحالتين.

جدول ٢٤ أحمال الخازوق مع الهبوط المناظر (القيم الدنيا)

الهبوط كنسبة من قطر كعب الخازوق s/D [-]	هبوط رأس الخازوق s [cm]	حمل الاحتكاك $R_{s,k(s)}$ [MN]	حمل الارتكاز $R_{b,k(s)}$ [MN]	الحمل الكلي $R_{c,k(s)}$ [MN]
s_{sg}	1,1	1,243	0,479	1,722
0,02	1,8	1,243	0,784	2,027
0,03	2,7	1,243	1,008	2,251
0,10	9,0	1,243	2,080	3,323

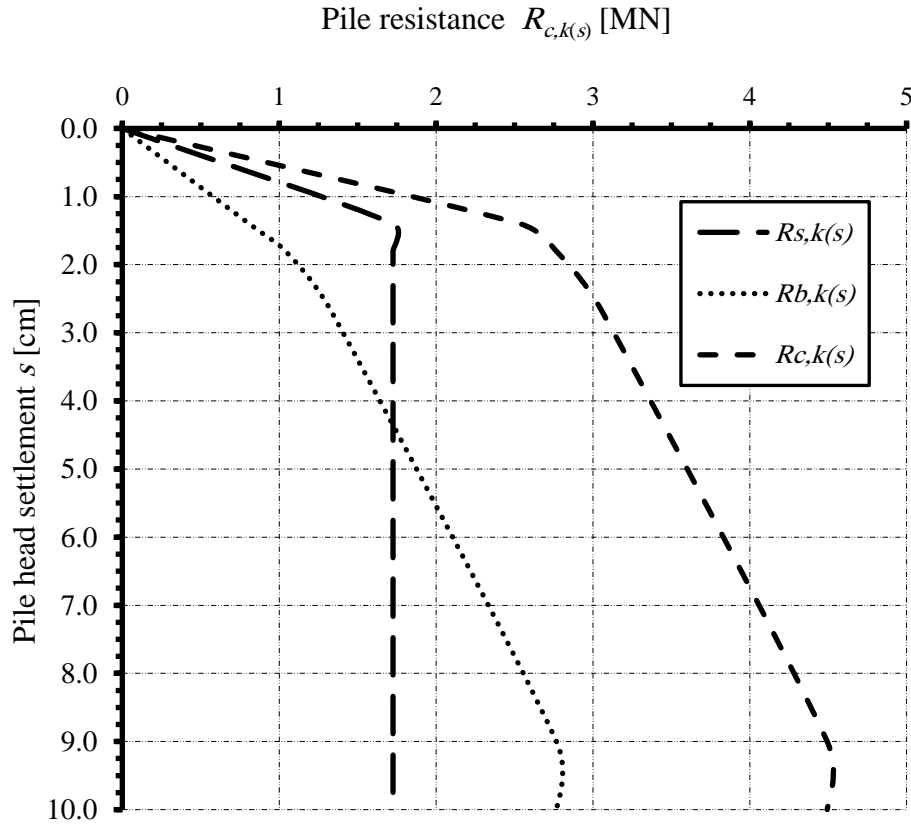
جدول ٢٥ أحمال الخازوق مع الهبوط المناظر (القيم العظمى)

الهبوط كنسبة من قطر كعب الخازوق s/D [-]	هبوط رأس الخازوق s [cm]	حمل الاحتكاك $R_{s,k(s)}$ [MN]	حمل الارتكاز $R_{b,k(s)}$ [MN]	الحمل الكلي $R_{c,k(s)}$ [MN]
s_{sg}	1,4	1,726	0,809	2,535
0,02	1,8	1,726	1,040	2,766
0,03	2,7	1,726	1,336	3,062
0,10	9,0	1,726	2,768	4,494



منحنى الحمل-الهبوط (القيم الدنيا) لـ "EA-Piles"

شكل ١٩



شكل ٢٠ منحنى الحمل-الهبوط (القيم العظمى) لـ "EA-Piles"

ثانياً: الحل باستخدام إلبالـ السريع

يتم عرض بيانات المدخلات والنتائج من إلبالـ السريع على الصفحات التالية. صفتان من بيانات المدخلات، والنتائج المتوسطة والنهائية، فضلاً عن صفحة من الرسم البياني ملونة وذلك على سبيل المقارنة، يمكن للمرء أن يرى اتفاقاً جيداً مع الحسابات اليدوية.

أبلا السريع

إصدار ١٠

تأليف Prof. M. El Gendy/ Dr. A. El Gendy

العنوان: Bearing capacity and settlement of a single pile

التاريخ: ١١_٠٦_٢٠١٥

مشروع: Example in Appendix B of DIN 4014 after EA-Piles

ملف: EA-Piles

قدرة تحمل وهبوط خازوق مفرد

منحنى الحمل-الهبوط للخازوق طبقاً للتوصيات الألمانية EA-Piles لقيم الجدول الدنيا

معطيات:

٠,٩٠٠ =	[م]	-D	قطر الخازوق
٠,٩٠٠ =	[م]	-Df	قطر كعب الخازوق
٨,٠٠٠ =	[م]	-Lg	طول الخازول
P1 =	[-]	-Pz	اسم الخازوق
١ =	[-]	-=Ipf	رقم الخازوق

ملخص النتائج

معطيات التربة أسفل ارتكاز الخازوق:

مقاومة التربة من اختبار المخروط أسفل ارتكاز الخازوق -qs [ميغن/م] = ١٧,٥٠

جهد ارتكاز الخازوق (طبقاً للمواصفات الألمانية EA-Piles جدول ٥,١٢)

١,٢٣ =	[ميغن/م]	-s/Df = 0.02	Sig
١,٥٨ =	[ميغن/م]	-s/Df = 0.03	Sig1
٣,٢٥ =	[ميغن/م]	-s/Df = 0.10	SigGR

قدرة تحمل وهبوط الخازوق المفرد أو حائط الخوازيق

النتائج الوسيطة
الاحتكاك على جذع الخازوق:

طبقة رقم	سمك الطبقة	مقاومة التربة من اختبار المخروط الغير محصور	تماسك التربة	الاحتكاك على جذع الخازوق	قوة الاحتكاك
ن	-L1 [م]	-qs [ميغن/م ٢]	-Cu [ميغن/م ٢]	-Tau [ميغن/م ٢]	-Qrg [ميغن]
١	٣,٠٠٠	----	٠,١٠٠	٠,٠٤	٠,٣٣٠
٢	٢,٥٠٠	٧,٠٠	-----	٠,٠٥	٠,٣٦٣
٣	٢,٥٠٠	١١,٠٠	-----	٠,٠٨	٠,٥٥٤

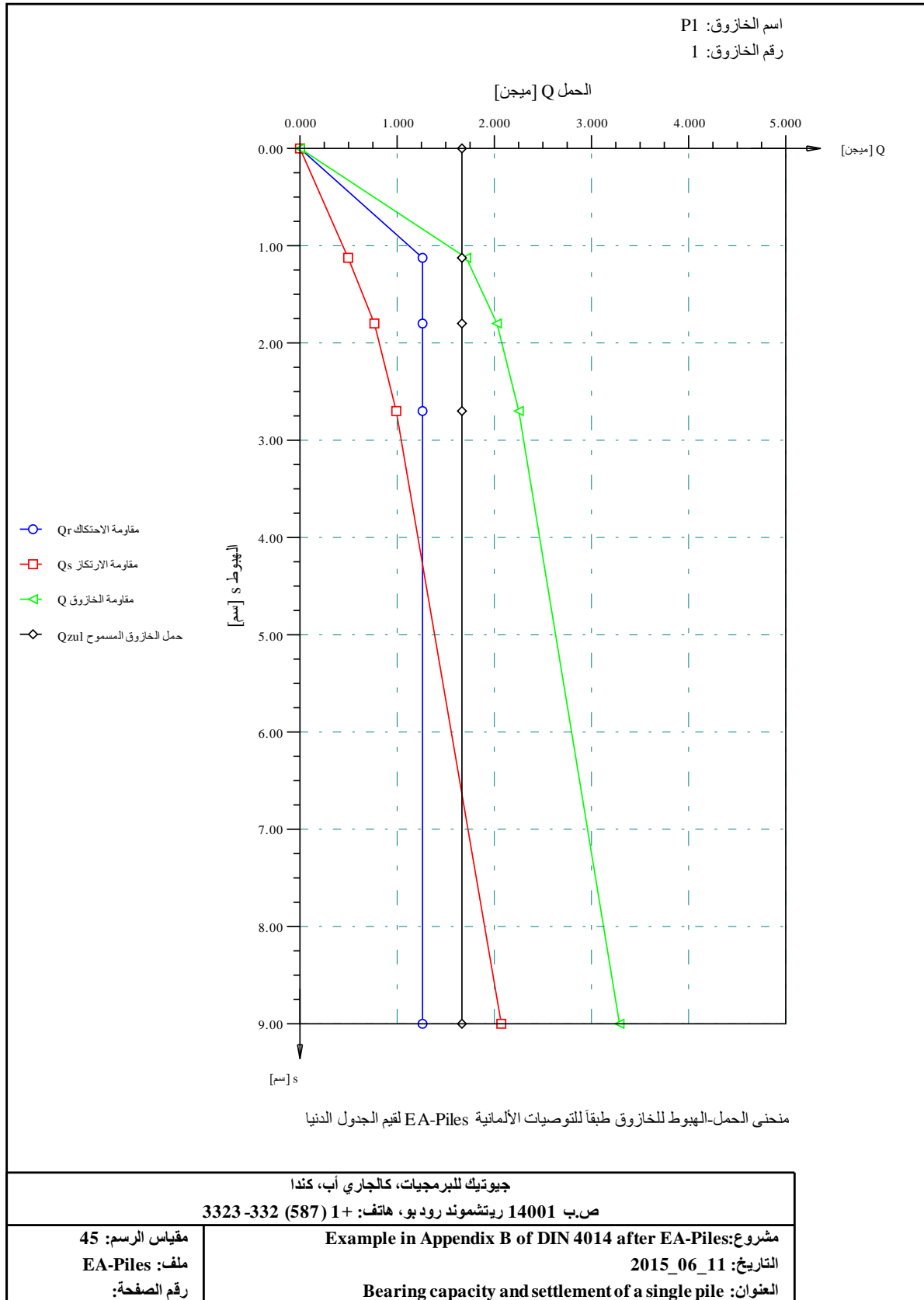
مجموع قوى الاحتكاك	-Qrf	١,٢٤٦ = [ميغن]
الحمل على رأس الخازوق	$-Q_{ma} + Q_{sp} = Q_v$	٠,٨٠٠ = [ميغن]
جزء مقاومة احتكاك جذع الخازوق من $-Q_v$	$-Q_{ma}$	٠,٥٧٥ = [ميغن]
جزء مقاومة ارتكاز الخازوق من $-Q_v$	$-Q_{sp}$	٠,٢٢٥ = [ميغن]
الهبوط المتوقع	$-s_v$	٠,٥٢ = [سم]

مقاومة الخازوق اعتماداً على هبوط الخازوق:

رقم	اعتماداً على	هبوط رأس الخازوق	مقاومة احتكاك الخازوق	مقاومة الارتكاز	مقاومة الخازوق
ن	-s/Df [-]	-s [سم]	-Qr [ميغن]	-Qs [ميغن]	-Q [ميغن]
١	٠,٠١٢	١,١٢	١,٢٤٦	٠,٤٨٦	١,٧٣٣
٢	٠,٠٢٠	١,٨٠	١,٢٤٦	٠,٧٧٩	٢,٠٢٦
٣	٠,٠٣٠	٢,٧٠	١,٢٤٦	١,٠٠٢	٢,٢٤٨
٤	٠,١٠٠	٩,٠٠	١,٢٤٦	٢,٠٦٨	٣,٣١٤ = $Q_g = 2 * Q_{zul}$

		النتائج النهائية:
١,٠٧ = [سم]	-Szul	الهبوط المسموح
١,٦٥٧ = [ميغن]	-Qr+Qs = Qzul	حمل الخازوق المسموح
١,١٩٢ = [ميغن]	-Qr	جزء جهد الاحتكاك على جذع الخازوق
٠,٤٦٥ = [ميغن]	-Qs	جزء مقاومة ارتكاز الخازوق
٢,٠٧١ = [-]	-Qzul/QV = ETHA	معامل الأمان

قدرة تحمل وهبوط الخازوق المفرد أو حائط الخوازيق



أبلاّ السريّ

إصدار ١٠

تأليف Prof. M. El Gendy/ Dr. A. El Gendy

العنوان: Bearing capacity and settlement of a single pile

التاريخ: ١١_٠٦_٢٠١٥

مشروع: Example in Appendix B of DIN 4014 after EA-Piles

ملف: EA-Piles

قدرة تحمل وهبوط خازوق مفرد

منحنى الحمل-الهبوط للخازوق طبقاً للتوصيات الألمانية EA-Piles لقيم الجدول العظمى

معطيات:

٠,٩٠٠ =	[م]	-D	قطر الخازوق
٠,٩٠٠ =	[م]	-Df	قطر كعب الخازوق
٨,٠٠٠ =	[م]	-Lg	طول الخازول
P1 =	[-]	-Pz	اسم الخازوق
١ =	[-]	-=Ipf	رقم الخازوق

ملخص النتائج

معطيات التربة أسفل ارتكاز الخازوق:

مقاومة التربة من اختبار المخروط أسفل ارتكاز الخازوق -qs [ميغن/م] = ١٧,٥٠

جهد ارتكاز الخازوق (طبقاً للمواصفات الألمانية EA-Piles جدول ٥,١٢)

١,٦٣ =	[ميغن/م]	-s/Df = 0.02	Sig
٢,٠٩ =	[ميغن/م]	-s/Df = 0.03	Sig1
٤,٣٣ =	[ميغن/م]	-s/Df = 0.10	SigGR

قدرة تحمل وهبوط الخازوق المفرد أو حائط الخوازيق

النتائج الوسيطة
الاحتكاك على جذع الخازوق:

طبقة رقم	سمك الطبقة	مقاومة التربة من اختبار المخروط الغير محصور	تماسك التربة	الاحتكاك على جذع الخازوق	قوة الاحتكاك
ن	-L1 [م]	-qs [ميغن/م ٢]	-Cu [ميغن/م ٢]	-Tau [ميغن/م ٢]	-Qrg [ميغن]
١	٣,٠٠٠	----	٠,١٠٠	٠,٠٥	٠,٤٣٤
٢	٢,٥٠٠	٧,٠٠	-----	٠,٠٧	٠,٥٢٨
٣	٢,٥٠٠	١١,٠٠	-----	٠,١١	٠,٧٦٣

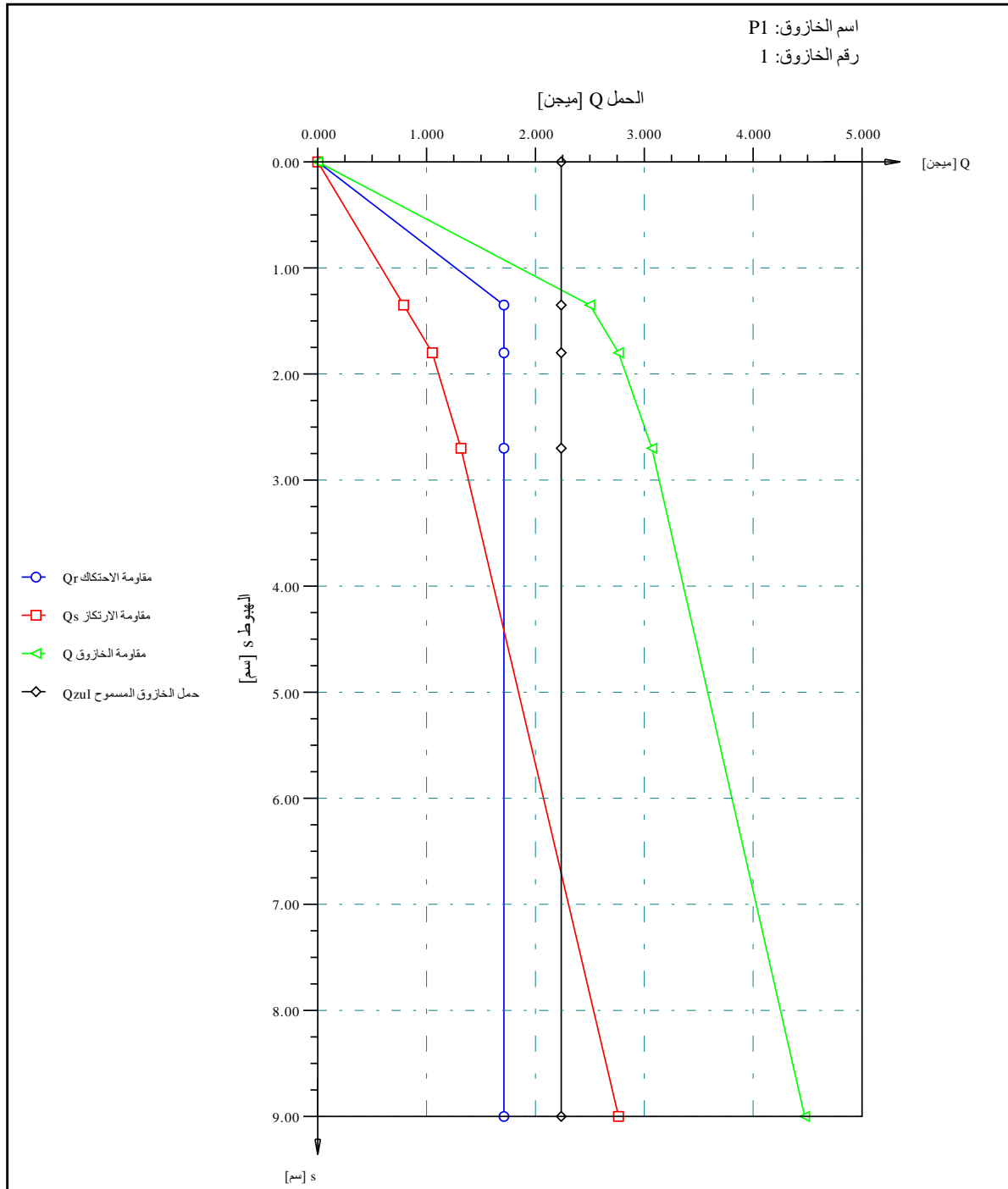
مجموع قوى الاحتكاك	-Qrf	١,٧٢٥ = [ميغن]
الحمل على رأس الخازوق	$-Q_{ma} + Q_{sp} = Q_v$	٠,٨٠٠ = [ميغن]
جزء مقاومة احتكاك جذع الخازوق من $-Q_v$	$-Q_{ma}$	٠,٥٥٠ = [ميغن]
جزء مقاومة ارتكاز الخازوق من $-Q_v$	$-Q_{sp}$	٠,٢٥٠ = [ميغن]
الهبوط المتوقع	$-s_v$	٠,٤٣ = [سم]

مقاومة الخازوق اعتماداً على هبوط الخازوق:

رقم	اعتماداً على	هبوط رأس الخازوق	مقاومة احتكاك الخازوق	مقاومة الارتكاز	مقاومة الخازوق
ن	-s/Df [-]	-s [سم]	-Qr [ميغن]	-Qs [ميغن]	-Q [ميغن]
١	٠,٠١٥	١,٣٦	١,٧٢٥	٠,٧٨٢	٢,٥٠٧
٢	٠,٠٢٠	١,٨٠	١,٧٢٥	١,٠٣٤	٢,٧٥٩
٣	٠,٠٣٠	٢,٧٠	١,٧٢٥	١,٣٢٨	٣,٠٥٣
٤	٠,١٠٠	٩,٠٠	١,٧٢٥	٢,٧٥١	٤,٤٧٦ = $Q_g = 2 * Q_{zul}$

		النتائج النهائية:
١,٢٢ = [سم]	-Szul	الهبوط المسموح
٢,٢٣٨ = [ميغن]	-Qr+Qs = Qzul	حمل الخازوق المسموح
١,٥٤٠ = [ميغن]	-Qr	جزء جهد الاحتكاك على جذع الخازوق
٠,٦٩٨ = [ميغن]	-Qs	جزء مقاومة ارتكاز الخازوق
٢,٧٩٨ = [-]	-Qzul/QV = ETHA	معامل الأمان

قدرة تحمل وهبوط الخازوق المفرد أو حائط الخوازيق



منحنى الحمل-الهبوط للخازوق طبقاً للتوصيات الألمانية EA-Piles لقيم الجدول العظمى

جيوتيك للبرمجيات، كالجاري أب، كندا ص.ب 14001 ريتشموند رود بو، هاتف: +1 (587) 332-3323	
مقياس الرسم: 44 ملف: EA-Piles رقم الصفحة:	مشروع: Example in Appendix B of DIN 4014 after EA-Piles التاريخ: 2015_06_11 العنوان: Bearing capacity and settlement of a single pile

١-٦ مثال ٥: العلاقة بين الحمل والهبوط لخازوق تثقيب طبقا للكود المصري

وصف المثال

المطلوب تحليل خازوق تثقيب مفرد يستخدم لدعم هامة خوازيق لجسر. تم تنفيذ تحليل خازوق التثقيب المفرد باستخدام برنامج إبلا-السريع. اختيار قطر مناسب للخازوق يتم من خلال تقييم سلوك الحمل مع الهبوط للخازوق المفرد. وتحدد العلاقة بين الحمل والهبوط وفقا للكود المصري لميكانيكا التربة والأساسات ١٩٧ لسنة ١٩٩٥ لخوازيق التثقيب التي قطرها يزيد عن ٦٠ [سم].

خواص التربة

تتكون التربة في موقع الجسر من طبقات متغيرة من الرمل والطين مع خصائص مختلفة تصل إلى عمق ٢٥ [م] تحت مستوى قاع البحر. وترد في جدول ٢٦ بيانات التربة الرئيسية التي تم الحصول عليها من الجسات الموجودة في موقع الخوازيق.

جدول ٢٦ خواص التربة

Layer	Layer Depth Under the SBL [m]	Soil Type	Av. SPT N Value	Angle of Int. friction Φ [deg]	Undrainage cohesion C_u [kN/m ²]
1	0.0-3.0	CL-ML	1	-	50
2	3.0-7.5	SM	30	35	-
3	7.5-12.0	GM	>100	38	-
4	12.0-15.0	SM	28	35	-
5	15.0-18.0	CL	38	-	150
6	18.0-22.5	SC-SM	48	31	-
7	22.5-25.0	CL	>100	-	250

اختيار قطر الخازوق والحمل التصميمي

تم اختيار خازوق قطره ١,٤ [م] وطوله ٢٨ [م]. الحمل التصميمي للخازوق المفرد طبقا للقطر المقترح يتم تحديده بحيث يوفي أقصى هبوط مقترح لهذا القطر مقدار ١,٠ [سم]. ويفضل في المشاريع العامة مثل الكباري استخدام خوازيق قطرها كبير لتقليل عدد الخوازيق الكلية أسفل الهامة وكذلك قدرة هذه الخوازيق الكبيرة على التحمل.

الحمل التصميمي للخازوق هو في حدود ٢٥٠٠ [كن] طبقا للحسابات. ومن المتوقع أن يكون الهبوط الفعلي للخازوق أكبر من ذلك في حالة دراسة رد الفعل التبادلي لمجموعة الخوازيق الكلية أسفل هامة الخوازيق.

أولا: الحسابات اليدوية

تتم الحسابات اليدوية وفقا للخطوات التالية:

حساب مقاومة الاحتكاك للخازوق

يتطلب لتقدير مقاومة الاحتكاك على جذع الخازوق طبق للكود المصري معرفة خواص التربة من أما من عدد الحبطات لاختبار *SPT* في حالة التربة الغير متماسكة أو من التماسك المحصور *Cu* في حالة التربة المتماسكة.

جدول ٢٧ يعرض تقدير لمقاومة الاحتكاك للتربة الغير المتماسكة، بينما جدول ٢٨ يعرض تلك للتربة المتماسكة.

جدول ٢٧ مقاومة الاحتكاك للخازوق للتربة غير المتماسكة

Layer	Soil Type	Layer Depth Under the SBL [m]	Av. <i>SPT</i> N Value	Values according ECP (1995)		
				depth	<i>SPT</i>	Skin friction τ [kN/m ²]
2	SM	3.0-7.5	30	2.0-7.5	20.0-30.0	45
3	GM	7.5-12.0	>100	2.0-10.0	>30.0	60
4	SM	12.0-15.0	28	>7.5	20.0-30.0	75
6	SC-SM	18.0-22.5	48	>10.0	>30.0	100

جدول ٢٨ مقاومة الاحتكاك للخازوق للتربة الغير المتماسكة

Layer	Soil Type	Layer Depth Under the SBL [m]	Undrainage cohesion C_u [kN/m ²]	Av. SPT N Value	Values according ECP (1995)	
					Undrainage cohesion C_u [kN/m ²]	Skin friction τ [kN/m ²]
1	CL-ML	0.0-3.0	50	1	50	35
5	CL	15.0-18.0	150	38	150	45
7	CL	22.5-25.0	250	>100	250	50

النتائج

يعرض جدول ٢٩ ملخص النتائج لتحليل خازوق مفرد. وترد قيم المدخلات والمخرجات من إبلا-السريع في الصفحتين التاليتين بالإضافة إلى رسم بياني للعلاقة بين الحمل والهبوط للخازوق.

جدول ٢٩ حمل الخازوق والهبوط

Pile diameter	Pile length	Allowable pile load	Allowable pile settlement	Design pile load	Expected settlement
d [m]	L_p [m]	Q_{all} [MN]	S_{all} [cm]	Q_v [MN]	S_e [cm]
1.4	28	4.58	1.69	2.5	0.87

ثانيا: الحل باستخدام إبلا-السريع

يتم عرض بيانات المدخلات والنتائج من إبلا-السريع على الصفحات التالية. صفحتان من بيانات المدخلات، والنتائج المتوسطة والنهائية، فضلا عن صفحة من الرسم البياني ملونة وذلك على سبيل المقارنة، يمكن للمرء أن يرى اتفاقا جيدا مع الحسابات اليدوية.

ألبلاً السريع

إصدار ١٠

تأليف Prof. M. El Gendy/ Dr. A. El Gendy

العنوان: Bearing capacity and settlement of a single pile

التاريخ: ٢٠١٠/٠٩/٢٥

مشروع: Example carried out by ECP

ملف: ECP

قدرة تحمل وهبوط خازوق مفرد

منحنى الحمل-الهبوط للخازوق محدد بواسطة المستخدم

معطيات:

١,٤٠ =	[م]	-D	قطر الخازوق
١,٤٠ =	[م]	-Df	قطر كعب الخازوق
٢٨,٠٠ =	[م]	-Lg	طول الخازوق
P1 =	[-]	-Pz	اسم الخازوق
١ =	[-]	-=Ipf	رقم الخازوق

ملخص النتائج

جهد ارتكاز الخازوق (معطى)

٠,٥٠ =	[ميغن/م ٢]	-s/Df = 0.02	Sig
٠,٧٠ =	[ميغن/م ٢]	-s/Df = 0.03	Sig1
١,٢٠ =	[ميغن/م ٢]	-s/Df = 0.10	SigGR

النتائج الوسيطة
الاحتكاك على جذع الخازوق:

طبقة رقم	سمك الطبقة	مقاومة التربة من اختبار المخروط	تماسك التربة الغير محصور	الاحتكاك على جذع الخازوق	قوة الاحتكاك
ن	-L1 [م]	-qs [ميغن/م ٢]	-Cu [ميغن/م ٢]	-Tau [ميغن/م ٢]	-Qrg [ميغن]
١	٣,٠٠	----	-----	٠,٠٤	٠,٤٦٢
٢	٤,٥٠	----	-----	٠,٠٥	٠,٨٩١
٣	٤,٥٠	----	-----	٠,٠٦	١,١٨٨
٤	٣,٠٠	----	-----	٠,٠٨	٠,٩٩٠
٥	٣,٠٠	----	-----	٠,٠٥	٠,٥٩٤
٦	٤,٥٠	----	-----	٠,١٠	١,٩٧٩
٧	٥,٥٠	----	-----	٠,٠٥	١,٢١٠

مجموع قوى الاحتكاك -Qrf = [ميغن] ٧,٣١٢

الحمل على رأس الخازوق -Qma+Qsp = Qv = [ميغن] ٢,٥٠٠
 جزء مقاومة احتكاك جذع الخازوق من -Qv -Qma = [ميغن] ٢,٢٦٢
 جزء مقاومة ارتكاز الخازوق من -Qv -Qsp = [ميغن] ٠,٢٣٨
 الهبوط المتوقع -sv = [سم] ٠,٨٧

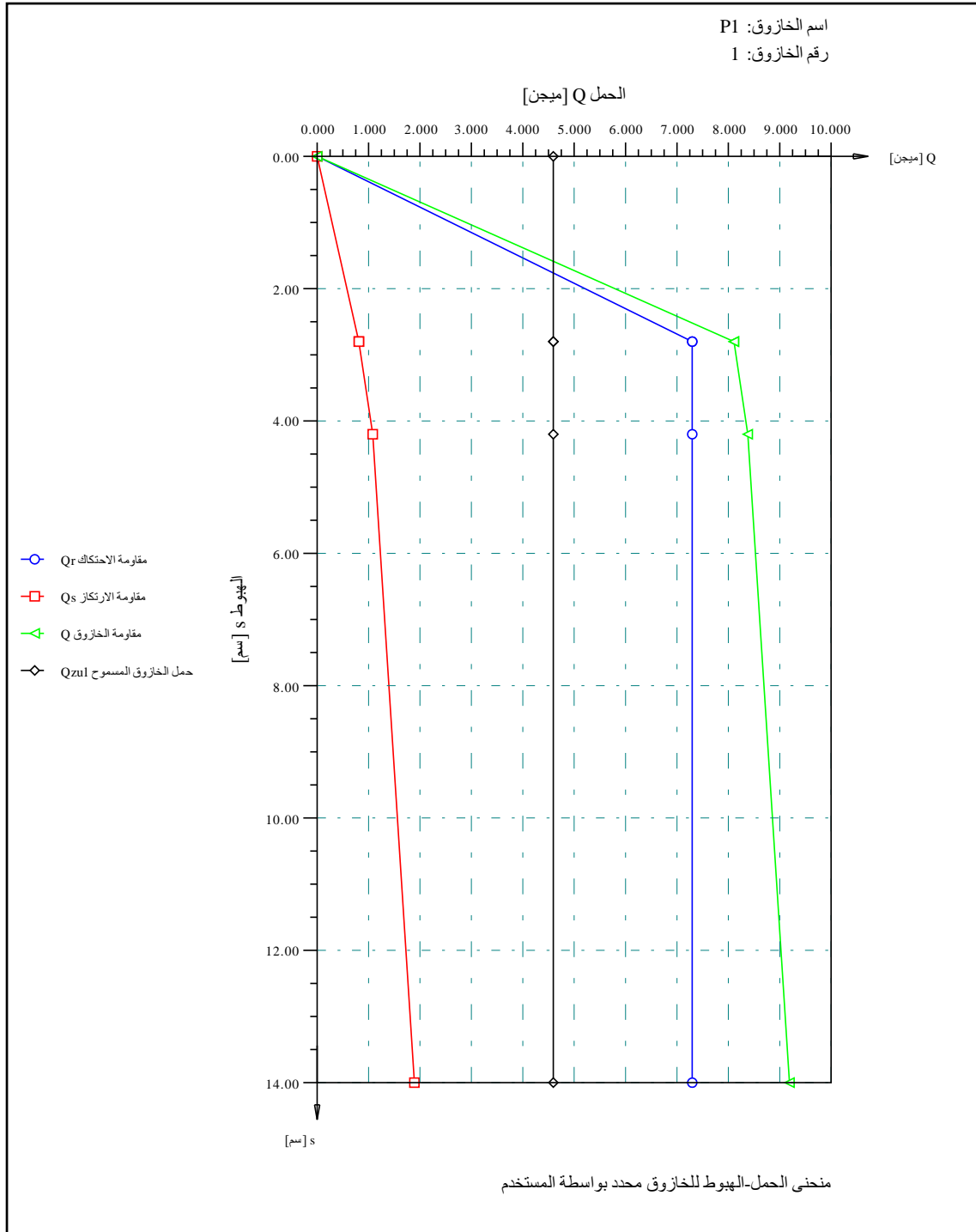
قدرة تحمل وهبوط الخازوق المفرد أو حائط الخوازيق

مقاومة الخازوق اعتماداً على هبوط الخازوق:

رقم	اعتماداً على	هبوط رأس الخازوق	مقاومة احتكاك الخازوق	مقاومة الارتكاز	مقاومة الخازوق
ن	$-s/D_f$	$-s$	$-Q_r$	$-Q_s$	$-Q$
[-]	[-]	[سم]	[ميغن]	[ميغن]	[ميغن]
١	٠,٠٢	٢,٨٠	٧,٣١٢	٠,٧٧٠	٨,٠٨٢
٢	٠,٠٢	٢,٨٠	٧,٣١٢	٠,٧٧٠	٨,٠٨٢
٣	٠,٠٣	٤,٢٠	٧,٣١٢	١,٠٧٨	٨,٣٩٠
٤	٠,١٠	١٤,٠٠	٧,٣١٢	١,٨٤٧	$Q_g=2*Q_{zul} = ٩,١٥٩$

النتائج النهائية:

$١,٥٩ =$	[سم]	$-S_{zul}$	الهبوط المسموح
$٤,٥٨٠ =$	[ميغن]	$-Q_r+Q_s = Q_{zul}$	حمل الخازوق المسموح
$٤,١٤٣ =$	[ميغن]	$-Q_r$	جزء مقاومة الاحتكاك على جذع الخازوق
$٠,٤٣٦ =$	[ميغن]	$-Q_s$	جزء مقاومة ارتكاز الخازوق
$١,٨٣ =$	[-]	$-Q_{zul}/Q_V = ETHA$	معامل الأمان



جيوتيك للبرمجيات، كالجاري أب، كندا ص.ب 14001 ريتشموند رود بو، هاتف: + (587) 332-3323	
مقياس الرسم: 90 ملف: ECP رقم الصفحة:	مشروع: Example carried out by ECP التاريخ: 25/09/2010 العنوان: Bearing capacity and settlement of a single pile

٧ مراجع

- [١] الكود المصري لميكانيكا التربة وتصميم وتنفيذ الأساسات الجزء الرابع: الأساسات العميقة ٢٠٠٧
- [2] *DIN 4014* (1990): Bohrpfähle - Herstellung, Bemessung und Tragfähigkeit, Ausgabe März, Deutsches Institut für Normung, Berlin.
- [3] *EA-Pfähle* (2007): Empfehlungen des Arbeitskreises "Pfähle" EA-Pfähle; Arbeitskreis Pfähle (AK 2,1) der Deutschen Gesellschaft für Geotechnik e.V., 1. Auflage, Ernst & Sohn, Berlin.
- [4] ELPLA 11, Analysis and design of slab foundations by FE- method. GEOTEC Software Inc., Canada 2017
- [4] *Simmer , K.* (1999): Grundbau, Teil 2 Baugruben und Gründungen. B. G. Teubner Stuttgart, Leipzig.